

1) ¿Cuánta plata tiene cada niño?

**JOSÉ**






\$ \_\_\_\_\_




**CARLOS**






\$ \_\_\_\_\_

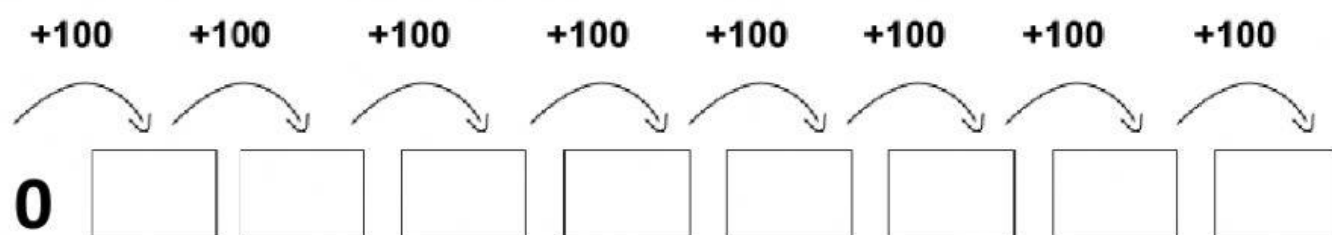
2) Completa los siguientes cuadros, para hacerlo observa el ejemplo:

| \$  | CANTIDAD | TOTAL |
|---|----------|-------|
|  | 3        | 3     |
|  | 3        | 30    |
|  | 3        | 300   |

| \$  | CANTIDAD | TOTAL |
|---|----------|-------|
|    | 3        |       |
|  | 12       |       |
|  | 6        |       |

| \$  | CANTIDAD | TOTAL |
|---|----------|-------|
|  | 7        |       |
|  | 21       |       |
|  | 9        |       |

3) Completa la siguiente secuencia:



4) Une con flechas:

**cuatrocientos treinta y seis** **504**

**seiscientos noventa y siete** **215**

**ciento veinte** **436**

**doscientos quince** **697**

**quinientos cuatro** **120**

5) Marca el número más grande:

**910**

**91**

**901**

**190**

**909**

6) Selecciona la opción correcta.

\_\_\_\_ **274** \_\_\_\_

\_\_\_\_ **359** \_\_\_\_

\_\_\_\_ **500** \_\_\_\_

\_\_\_\_ **630** \_\_\_\_

7) Arma todos los números posibles con las siguientes cifras:

**375**

---

8) Ordena los números que armaste en el punto anterior, de menor a mayor:

---