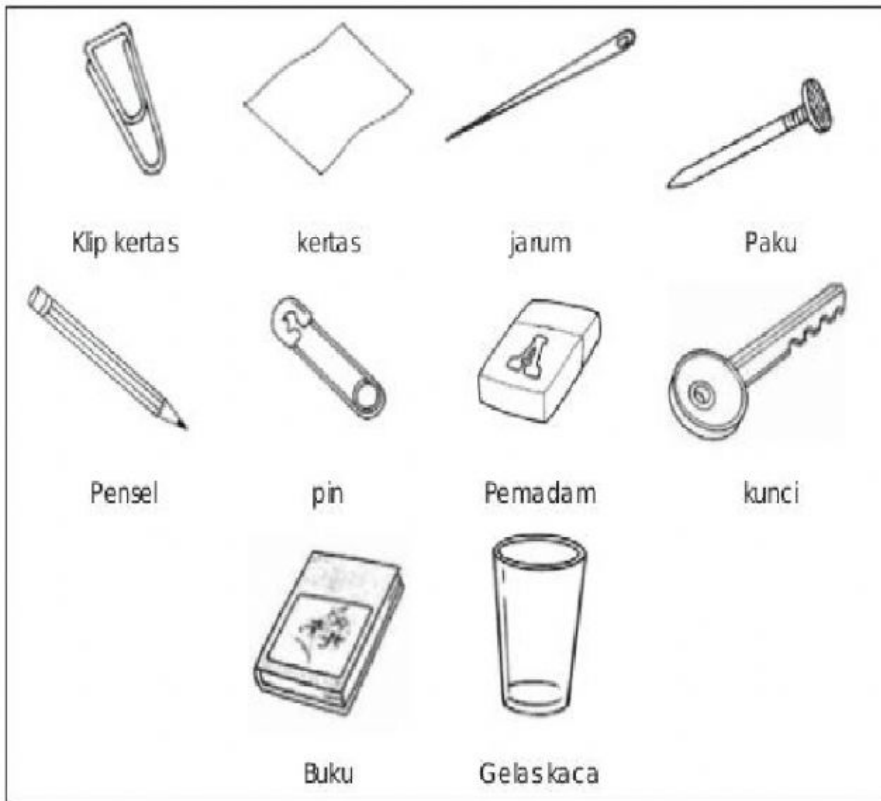


LEMBARAN KERJA 1

**Tajuk** : Kumpulkan Yang Sama

**Arahan** : Kelaskan objek di bawah kepada bahan yang **boleh ditarik** oleh magnet dan **tidak boleh ditarik** oleh magnet



Objek

Boleh ditarik

Tidak boleh ditarik

Nama: \_\_\_\_\_ Kelas: \_\_\_\_\_

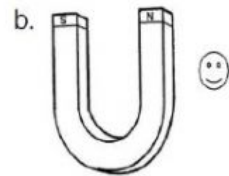
Lembaran Kerja

Tarikh: \_\_\_\_\_

2a. Padankan bentuk magnet dengan nama yang betul. (TP2)



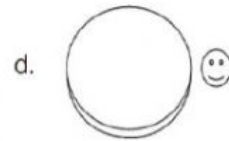
☺ Magnet ladam



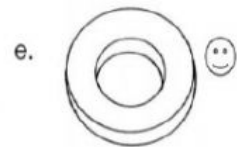
☺ Magnet butang




☺ Magnet bar



☺ Magnet cincin



☺ Magnet silinder



☺ Magnet bentuk U

Nama: \_\_\_\_\_ Kelas: \_\_\_\_\_

Lembaran Kerja

Tarikh:

5b. Tandakan ( ✓ ) pada magnet yang paling kuat. (TP5)

