






1. Completa las sucesiones y escribe el patrón que sigue.

Sucesiones	Patrón
690-640-590-_____ - _____	
480-240-_____ -60-_____	
860-760-660-_____ - _____	
2500-_____ -100-20-_____	
810-270-90-_____ - _____	
250-240-230-_____ - _____	