




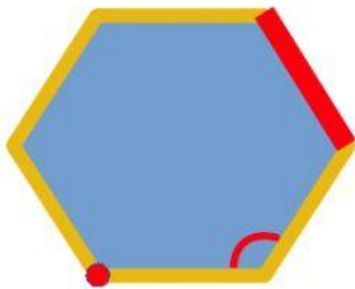


Miércoles 3 junio 2020

Identifica los siguientes tipos de líneas. Arrastra cada cartel a su lugar.

				
Línea curva abierta	Línea curva cerrada	Línea poligonal abierta	Línea poligonal cerrada	Línea recta

Une cada elemento del polígono con su nombre.






Ángulo

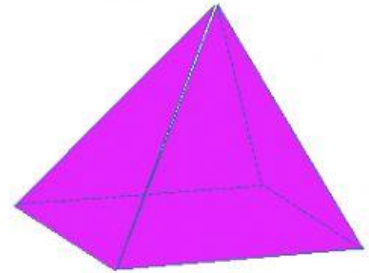
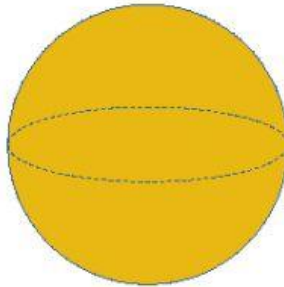
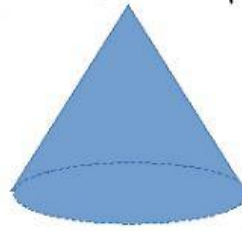
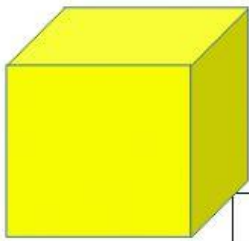

Lado

Vértice

Indica el nombre de los siguientes polígonos



Indica que forma tienen los siguientes cuerpos geométricos



Cono

Cilindro

Esfera

Pirámide

Cubo

Prisma

Escribe la forma geométrica de los siguientes objetos

