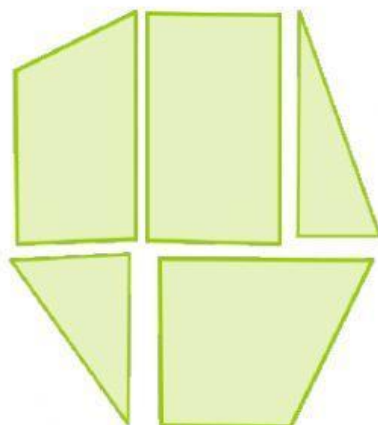
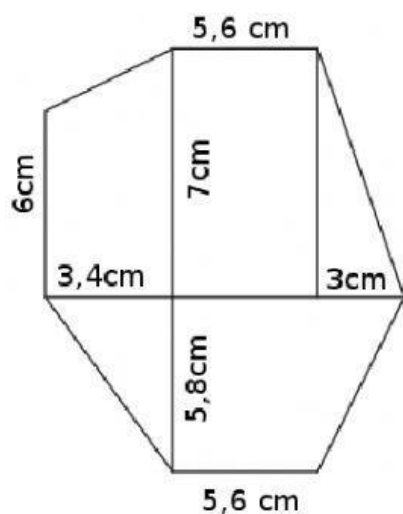


# Área de los polígonos irregulares

Ya hemos visto en el vídeo que hay varias formas de trocear los polígonos irregulares para calcular su área.

- a) Escribe el nombre de los polígonos resultantes en cada caso.
- b) Anota sus medidas
- c) Calcula el área total del heptágono en tu cuaderno con el troceado que prefieras.
- d) Anota tu respuesta en esta página

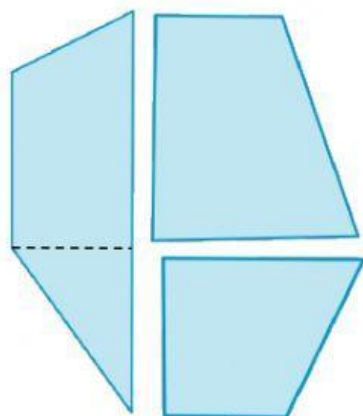


Contiene:

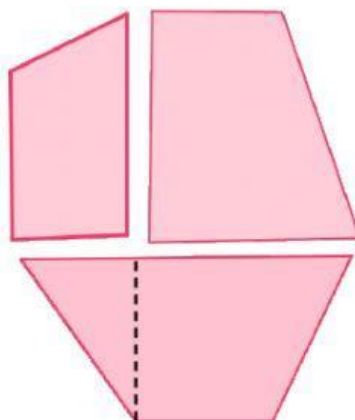
Dos

Dos

Un



Contiene: tres



Contiene: tres

Área del heptágono

cm<sup>2</sup>