

Gogoratu

Kilogramoa edo kiloa (kg) pisuak neurtzeko unitate nagusia da.

$$1 \text{ kilo} = 2 \text{ kilo erdi}$$

$$1 \text{ kilo} = 4 \text{ kilo laurden}$$

Seinalatu erantzunik egokiena.

	KILO BAT BAINO GEHIAGO	KILO BAT BAINO GUTXIAGO
Kolibria		
Katua		
Matematikako liburua		
Telebista		
Pertsona		
Tximeleta		
Sagua		

Kalkulatu.

$$4 \text{ kg} = \dots\dots\dots \text{ kilo erdi} = \dots\dots\dots \text{ kilo laurden.}$$

$$7 \text{ kg} = \dots\dots\dots \text{ kilo erdi} = \dots\dots\dots \text{ kilo laurden.}$$

$$15 \text{ kg} = \dots\dots\dots \text{ kilo erdi} = \dots\dots\dots \text{ kilo laurden.}$$


4 Osatu.

Kilo bat eta erdian kilo erdi daude.

Kilo erdian kilo laurden daude.

Kilo bat eta erdian kilo laurden daude.

Kalkulatu zenbat pisatzen duten produktu hauek:




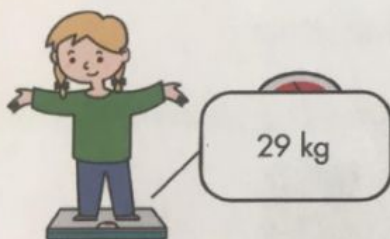
Idatzi pisua letraz.

.....

Idatzi pisua letraz.

.....

Zer pisu du katuak?



Katuakditu. (Idatzi letraz pisua.)

Erramunek kilo eta erdi laranja eta kilo eta laurden mahats erosi du. Zer pisu du erosi duen frutak?



Idatzi emaitza letraz: