

1. ¿Cuál de las siguientes líneas es una línea curva?



**a**



**b**



**c**



**d**

2. ¿Cuál de las siguientes imágenes no es una figura geométrica plana?




**a**



**b**

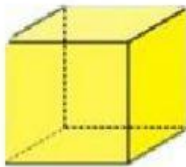


**c**

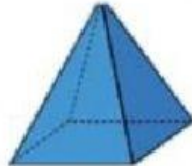


**d**

3. ¿Cuál de las siguientes figuras no es un poliedro?



**a**



**b**




**c**



**d**


4. Observa la imagen y responde ¿Cuántas figuras geométricas planas hay en la imagen del velero?



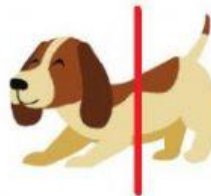
5. observa las imágenes e indica cual o cuales tienen sus partes iguales al dividirlos con un eje de simetría



**a**



**b**



**c**



**d**

6. Observa la primera imagen y completa la figura con las alternativas



**a**



**b**



**c**