

LOS NÚMEROS HASTA EL 799

Números hasta el 799

Hay 699 unidades y añado 1. ¿Cuántas hay en total?

$$699 + 1 = 700$$

setecientos



Hay 7 centenas que son 700 unidades.



1 Une.



☐

☐ 7 C y 3 D ☐

☐ $700 + 30 + 3$



☐

☐ 7 C y 3 U ☐

☐ $700 + 3$



☐

☐ 7 C, 3 D y 3 U ☐

☐ $700 + 30$

2 Descompón estos números.

748 → C, D y U

672 → C, D y U

750 → C, D y U

507 → C, D y U

- 3 Cuenta de 10 en 10 y completa la recta.



- 4 ¿Cuál es el número mayor en cada caso? Rodea y escribe su nombre.

432 640 750

763 717 729

773 779 771















- 5 Escribe, en cada caso, el número anterior y el posterior.

 770

 749

 711

- 6 Completa las series.

 742	 745	 748	 <input type="text"/>	 <input type="text"/>	 <input type="text"/>	 <input type="text"/>
 729	 726	 723	 <input type="text"/>	 <input type="text"/>	 <input type="text"/>	 <input type="text"/>