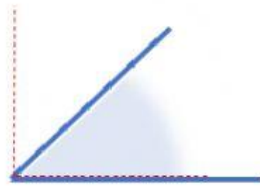


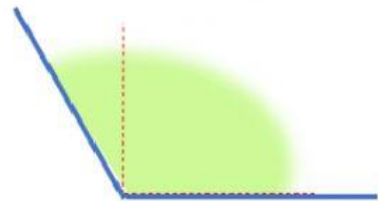
TIPOS DE ÁNGULOS



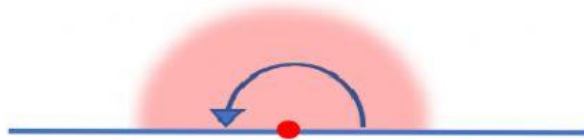
ÁNGULO RECTO



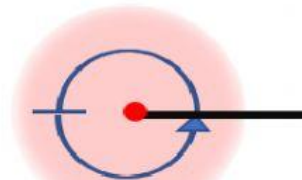
ÁNGULO AGUDO



ÁNGULO OBTUSO



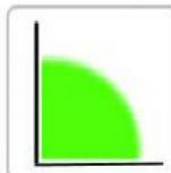
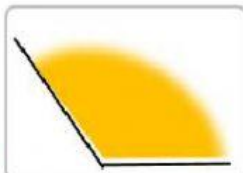
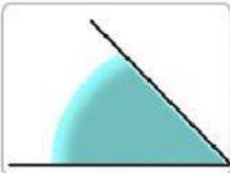


ÁNGULO LLANO



ÁNGULO COMPLETO

1. Clasifica estos ángulos según sean agudos, obtusos o rectos.



ÁNGULOS
AGUDOS



ÁNGULOS
RECTOS



ÁNGULOS
OBTUSOS



2. Completa con estas palabras:

LLANO

COMPLETO

RECTO

AGUDO

OBTUSO

90°

● Este ángulo  es un ángulo

● Un ángulo recto mide

● Este ángulo  se llama ángulo

● Este ángulo  es un ángulo

● Este ángulo  se llama ángulo

● Este ángulo  es un ángulo

