






LOS POLIEDROS 5° Primaria

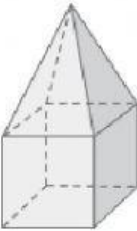
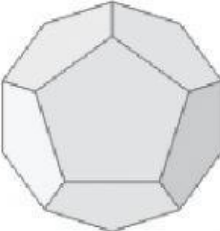
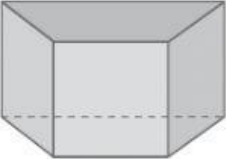
Escribe V si es verdadero y F si es falso.

- Sólo hay cinco poliedros regulares. 
- El cubo es el único poliedro regular formado por cuadrados. 
- El icosaedro tiene 12 caras y el dodecaedro tiene 20 caras. 
- El tetraedro, el octaedro y el icosaedro están formados por triángulos equiláteros. 
- Hay un poliedro regular formado por octógonos. 

Escribe el nombre del cuerpo geométrico que corresponda.

- a) Tiene dos bases que son hexágonos y las caras laterales son rectángulos. ►
- b) Es un cuerpo redondo. Tiene una sola base. ►
- c) La base es un rectángulo y las caras laterales son triángulos. ►
- d) No tiene vértices y tampoco bases. ►
- e) Tiene dos bases que son triángulos y sus caras laterales son cuadrados. ►

Completa la tabla escribiendo SI o NO donde corresponda.

			
es un poliedro			
es un prisma			
es una pirámide			
es un cuerpo redondo			

Relaciona cada cuerpo geométrico con su base.

