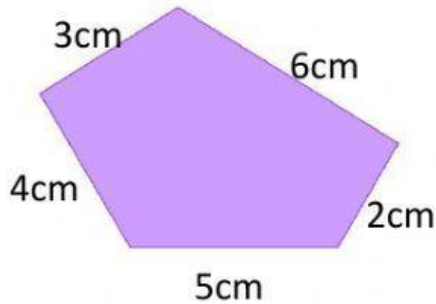


## Polígonos: El perímetro

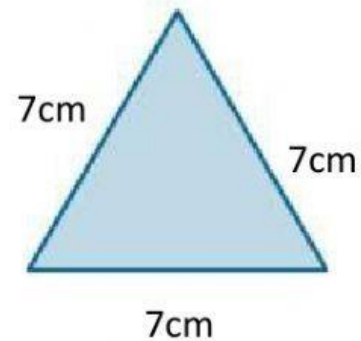
1 *Calcula el perímetro de estos polígonos:*



*Escribe la operación que necesitas realizar:*

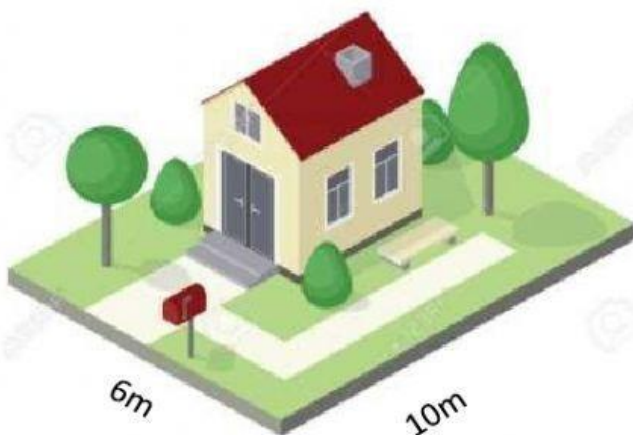
*Resultado: El perímetro es \_\_\_\_\_ cm*

2 *Escribe la operación que necesitas realizar:*



*Resultado: El perímetro es \_\_\_\_\_ cm*

3 *¿Cuál es el perímetro de esta parcela?*



*Escribe la operación que necesitas realizar:*

*Resultado: El perímetro es \_\_\_\_\_ m*