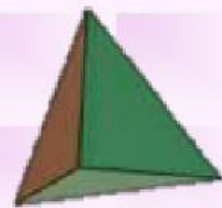
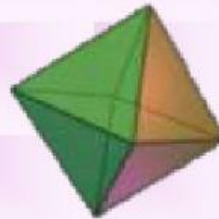
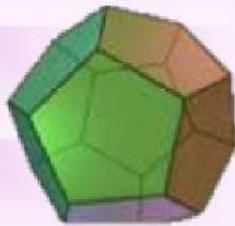
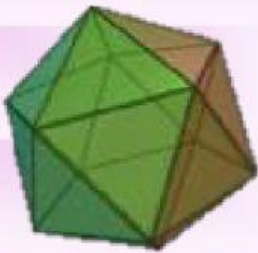


POLIEDROS REGULARES



1. ¿Qué es un poliedro regular?

2. Selecciona el nombre de cada poliedro



Tetraedro

Icosaedro

Dodecaedro

Octaedro

3. Completa la siguiente tabla

Poliedro	<i>Caras del poliedro</i>	Nº Vértices	Nº Caras	Nº Aristas	Fórmula de Euler $V + C = A + 2$
Tetraedro					
Cubo					
Octaedro					
Dodecaedro					
Icosaedro					