













## Δεκαδικά κλάσματα

Όνομα:.....  
.....

### 1. Κύκλωσε μόνο τα δεκαδικά κλάσματα

$$\frac{2}{5} \quad \frac{25}{100} \quad \frac{350}{1000} \quad \frac{1}{2} \quad \frac{8}{10} \quad \frac{3}{4} \quad \frac{5}{25} \quad \frac{3}{100} \quad \frac{75}{100}$$

### 2. Βοήθησέ τα αερόστατα να φτάσουν στον προορισμό τους. Αντιστοίχισέ όσα είναι ίσα, όπως στο παράδειγμα.

					
$\frac{50}{100}$	$\frac{30}{100}$	$\frac{6}{10}$	$\frac{4}{10}$	$\frac{90}{100}$	$\frac{70}{100}$
$\frac{3}{10}$	$\frac{5}{10}$	$\frac{40}{100}$	$\frac{60}{100}$	$\frac{7}{100}$	$\frac{9}{10}$
					

A line connects the  $\frac{50}{100}$  fraction box to the  $\frac{5}{10}$  fraction box, indicating they are equivalent.