






PRACTICA CÁLCULO CON LA PIRÁMIDE MÁGICA



Puedes seguir practicando en : <https://www.cokitos.com/piramide-de-sumas/play/>

Resuelve estos retos

7º) ¿Qué valor tienen el cerdo, el tigre y el ratón en esta tabla de multiplicación?

			
	 6 8		
	6 9 12		
	8 12 16		

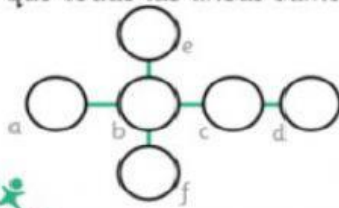


Soy un número de tres cifras. La suma de las tres cifras es 18. La cifra de las unidades es el triple que las centenas. La cifra de las decenas es el doble que las centenas.



--	--	--

Coloca estos números 1,2,3,4,5,6 para que todas las líneas sumen 12.



educaplanet



1º) Escribe todas las sumas de 3 y 4 cifras que den 12

2º) Elige de las anteriores aquellas en las que coincida sólo un número.

3º) Coloca ese número en?