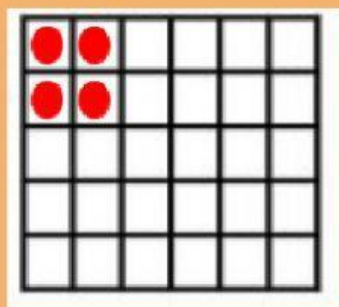


# MULTIPLICACION CON ARREGLOS


Selecciona la multiplicación que representa la cuadrícula. Observa con cuidado, ya que en algunos casos puedes encontrar más de una opción.



**$2 \times 4$**

**$2 \times 2$**

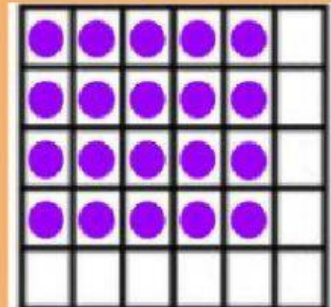
**$2 \times 3$**



**$4 \times 4$**

**$4 \times 2$**

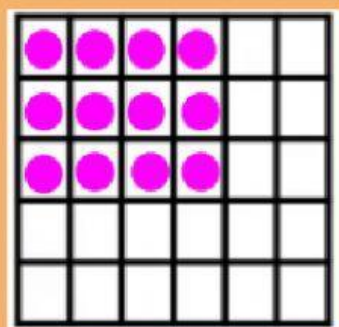
**$3 \times 4$**



**$5 \times 4$**

**$4 \times 5$**


**$5 \times 5$**



**$4 \times 4$**

**$4 \times 3$**


**$3 \times 4$**



**$3 \times 4$**

**$4 \times 4$**

**$3 \times 3$**



**$5 \times 5$**

**$6 \times 6$**

**$6 \times 5$**