



UPSALA
COLLEGE

Materia: Matemática

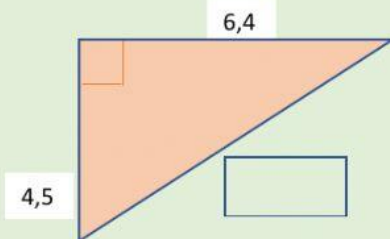
Docente: Lucila Fernández Salcedo

GEOMETRÍA

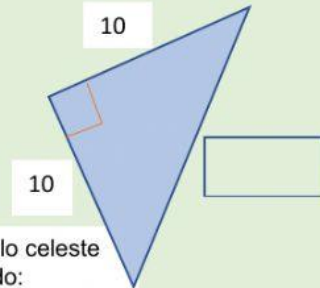
TEOREMA DE PITÁGORAS:

¡A CALCULAR!

Determinar el valor del lado que falta. Escribir el resultado utilizando los dos primeros decimales:

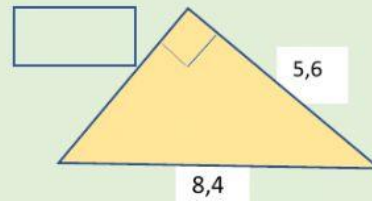
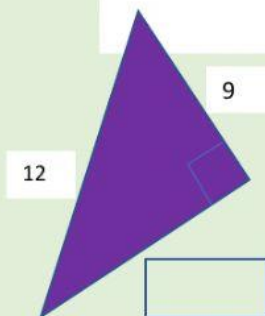


En este triángulo naranja estoy calculando:



En este triángulo celeste estoy calculando:

En este triángulo violeta estoy calculando:



En este triángulo amarillo estoy calculando:

Determinar cual de los siguientes grupos de lados pueden formar un triángulo rectángulo:

- | | | |
|------------------------------|----|----|
| A. 13 cm ; 5 cm ; 12 cm | SI | NO |
| B. 12 cm ; 20 cm ; 16 cm | SI | NO |
| C. 5 cm ; 9 cm ; 7 cm | SI | NO |
| D. 7,5 cm ; 4 cm ; 8,5 cm | SI | NO |
| E. 5,65 cm ; 4 cm ; 4 cm | SI | NO |
| F. 12,4 cm ; 8,6 cm ; 8,6 cm | SI | NO |