

PERÍMETROS

1

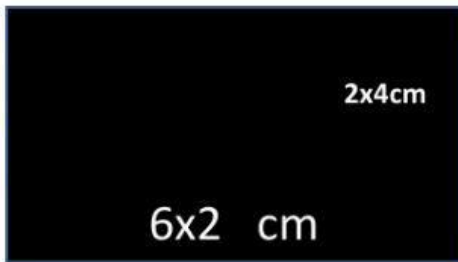


¿Cuál será el perímetro?

40

30

2

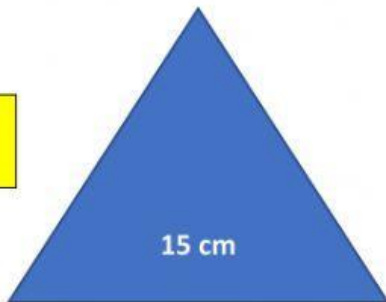


¿Cuál será el perímetro?

42

20

3




¿Cuál será el perímetro?

36

9

4




EL PERÍMETRO ES 45 cm. ¿Cuánto medirá el lado?

38

24

5



Cada lado mide la mitad de 16 menos el doble de 2 cm. ¿Cuánto medirá el perímetro?

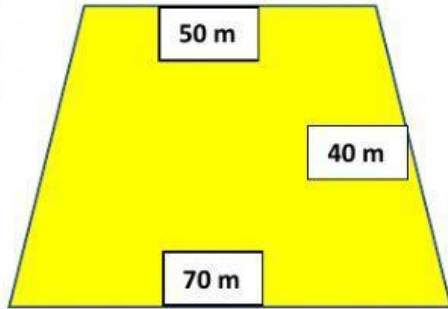
25

45

36

35

6



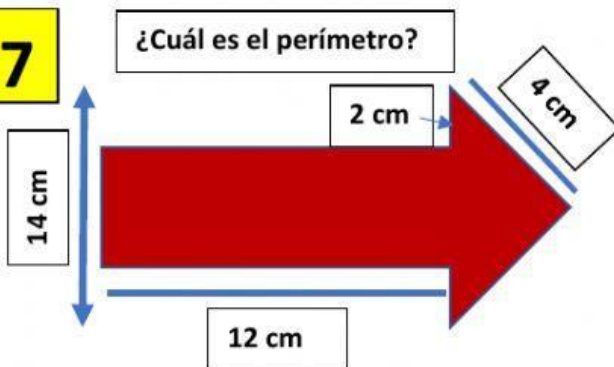
Este es el parque de mi casa. Si doy 2 vueltas por su perímetro. ¿Cuántos metros habré hecho?

800

160

34

7



400

45

8

Quiero vallar este jardín.
Cada metro de valla me cuesta 10 €
¿Cuánto me costará todo?

60


25 m



80

46

9



En esta figura hay 2 rectángulos naranjas cruzados. Uno vertical y otro horizontal.

Los rectángulos miden 50 m de largo y 20 de ancho.

¿Cuál será el perímetro de la zona verde?

40