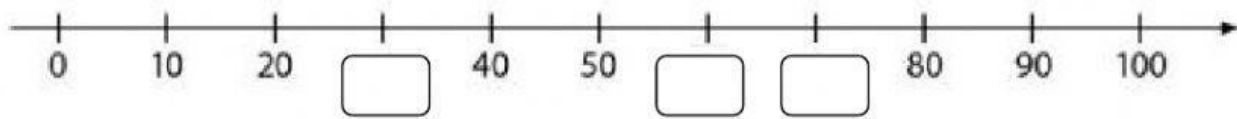


Liczę dziesiątkami do 100

1 Licz dziesiątkami do 100. Wpisz w okienka brakujące liczby.




2 Powiedz, ile złotych jest na każdym obrazku. Wpisz liczby w okienka.




3 Na każdym sznurku jest 10 koralików. Ile koralików jest razem na:


• 5 sznurkach?



• 3 sznurkach?



• 4 sznurkach?



4 Połącz ze sobą te same liczby zapisane słowami i cyframi

dwadzieścia



czterdzieści



osiemdziesiąt



40

90

20

50

60

80

pięćdziesiąt



dziewięćdziesiąt



sześćdziesiąt

