

Problemi disfatti





SCEGLI LA FILA DALLA QUALE E' PIU' FACILE PARTIRE
DISTRIBUENDO IL VALORE

			
<input type="text"/>	<input type="text"/>	<input type="text"/>	<input type="text"/>





7

			
<input type="text"/>	<input type="text"/>	<input type="text"/>	<input type="text"/>



5

			
<input type="text"/>	<input type="text"/>	<input type="text"/>	<input type="text"/>


13

			
<input type="text"/>	<input type="text"/>	<input type="text"/>	<input type="text"/>

18

			
<input type="text"/>	<input type="text"/>	<input type="text"/>	<input type="text"/>

16

 = _____