














REPASO DE NOTAS, FIGURAS Y COMPASES

1. Escribe el nombre de las siguientes notas musicales:



2. Di cuánto valen las siguientes figuras y silencios musicales:

 Blanca	 Silencio de negra	 Semicorcheas 4	 Silencio de redonda	 Negra
 Silencio de corchea	 Silencio de blanca	 Corcheas 2	 Redonda	
 Blanca con puntillo	 Negra con puntillo	 Silencio de negra con puntillo	 Corchea	

3. Relaciona cada fragmento con su compás:



$\frac{3}{4}$



$\frac{2}{4}$



$\frac{4}{4}$