


REPASO TEMA 9: LAS FRACCIONES

1. Escribe la fracción representada:









2. Escribe como se leen las siguientes fracciones:

$$\frac{2}{5}$$

$$\frac{5}{12}$$

$$\frac{3}{8}$$

$$\frac{7}{9}$$

3. Ordena las fracciones de menor a mayor:

$$\frac{9}{12}$$

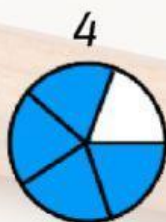
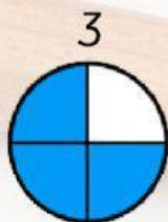
$$\frac{5}{12}$$

$$\frac{11}{12}$$

$$\frac{2}{12}$$

_____ < _____ < _____ < _____

4. Relaciona las fracciones con sus dibujos.



$$\frac{1}{4}$$

$$\frac{3}{4}$$

$$\frac{4}{5}$$

$$\frac{2}{6}$$