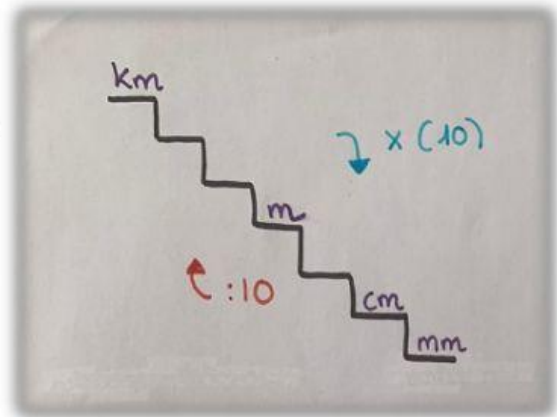


Tema 9: MEDIDAS

1. Pasa estas cantidades a la medida que se indiquen, con la ayuda de la escalera:

- 12km: _____ m
- 123m: _____ cm
- 3400cm: _____ m
- 3.000.000mm: _____ km
- 200.000m: _____ km
- 98.000mm: _____ cm



2. ¿Qué unidad usarías para medir las siguientes longitudes? (Escribís: km, m, cm o mm. La palabra entera NO)

Ejemplo:

El grosor de un folio: mm



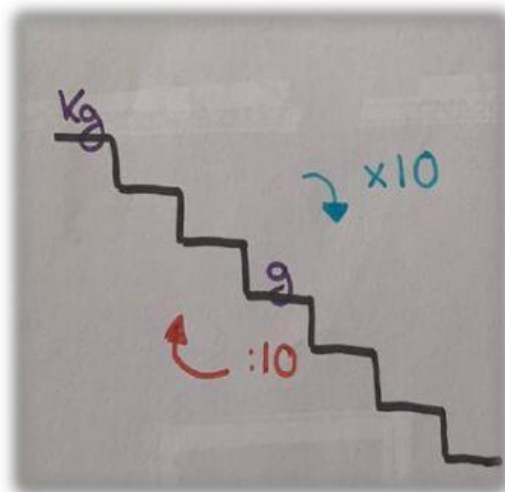
El grosor de un folio: milímetro



- El ancho de mi libreta: _____
- La altura de una casa: _____
- La distancia desde el campo de fútbol hasta la Atalaya: _____
- El largo de un camión: _____
- Medir la punta del lápiz: _____

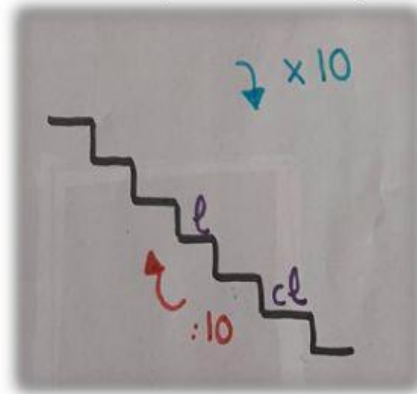
3. Pasa estas cantidades a la medida que se indiquen, con la ayuda de la escalera:

- 6kg: _____ g
- 38k y 45g: _____ g
- 4000g: _____ kg
- 5kg y 3g: _____ g
- 40kg: _____ g
- 96000g: _____ kg




4. Pasa estas cantidades a la medida que se indiquen, con la ayuda de la escalera:

- 7L y 2 cl: _____ cl
- 34000cl: _____ L
- 32L y 32cl: _____ cl
- 86500L: _____ cl



5. ¿Cuántos litros hay? Recuerda...



	<input type="text"/>
	<input type="text"/>
	<input type="text"/>
	<input type="text"/>