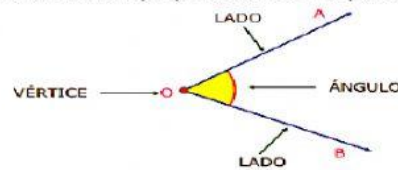



## LOS ÁNGULOS, SUS ELEMENTOS Y CLASIFICACIÓN

Ángulo es la región del plano comprendida entre dos semirrectas (lados) que tienen el mismo origen (vértice). Los ángulos se miden en grados y se representa con un pequeño cero en la parte superior derecha de un numero ( $^{\circ}$ ).



### Actividad

1. Indica cuales de los siguientes objetos tiene ángulos ( ☒ Si ) y cuales no ( ☐ No ).



Si No



Si No



Si No



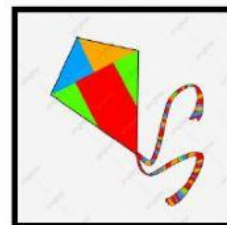
Si No



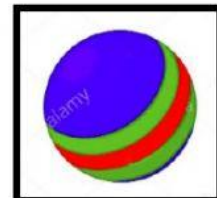
Si No



Si No


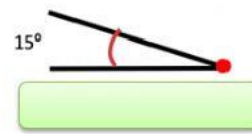
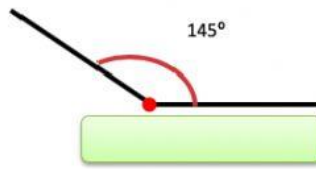
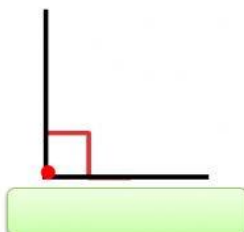


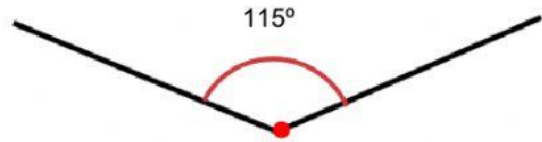
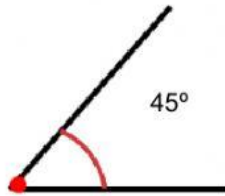
Si No



Si No

2. Observa cada ángulo e indica de que clase es (Agudo, recto, obtuso, llano, completo):





### EVALAUCION FORMATIVA

Ahora vas a reflexionar respecto a cómo te sentiste y qué tanto aprendiste en el desarrollo de esta guía. Escribe las conclusiones a las que llegaste ¡Debes de ser muy sincero!

1. ¿Qué fue lo que más te causo dificultades al resolver las tareas de esta guía?

---

---

---

---

2. ¿Por qué crees que te causó dificultad?

---

---

---

---

3. ¿Qué fue lo que te pareció más fácil en la guía?

---

---

---

---

4. Con tus palabras escribe qué aprendiste.

---

---

---

---

5. ¿Qué crees que puedes hacer en la próxima guía?

---

---

---

---