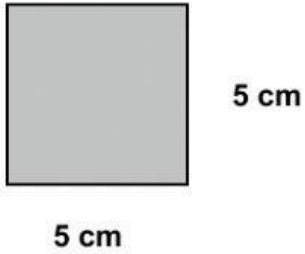
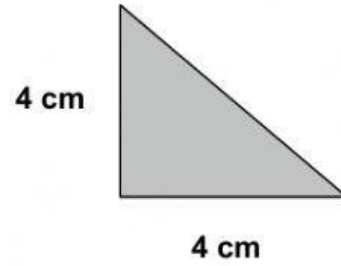


Nombre:

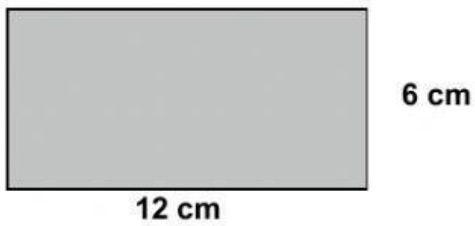
1 Calcula el área de las siguientes figuras planas:



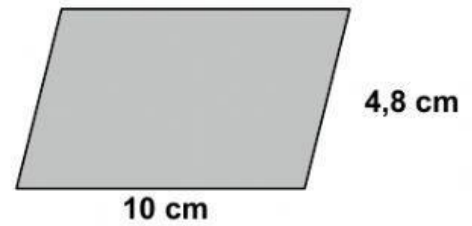
A =



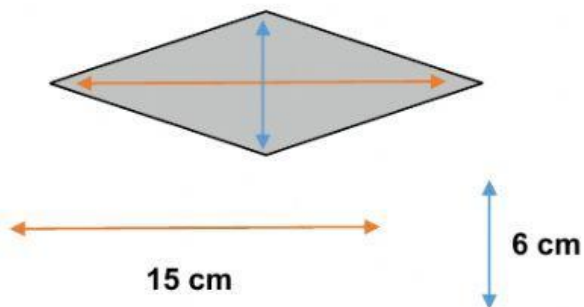
A =



A =

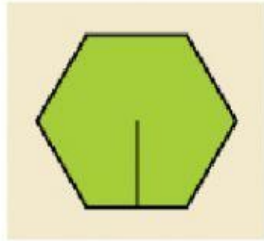


A =



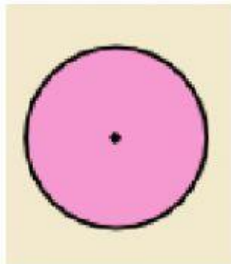
A =

- 2 Calcula el área de un hexágono regular cuyo lado mide 10 cm y su apotema 8,7 cm.



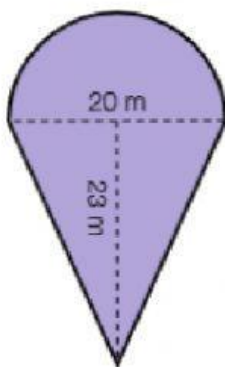
A =

- 3 Halla el área de un círculo cuyo radio es 20 cm.



A =

- 4 Halla el área de esta figura.



A =

