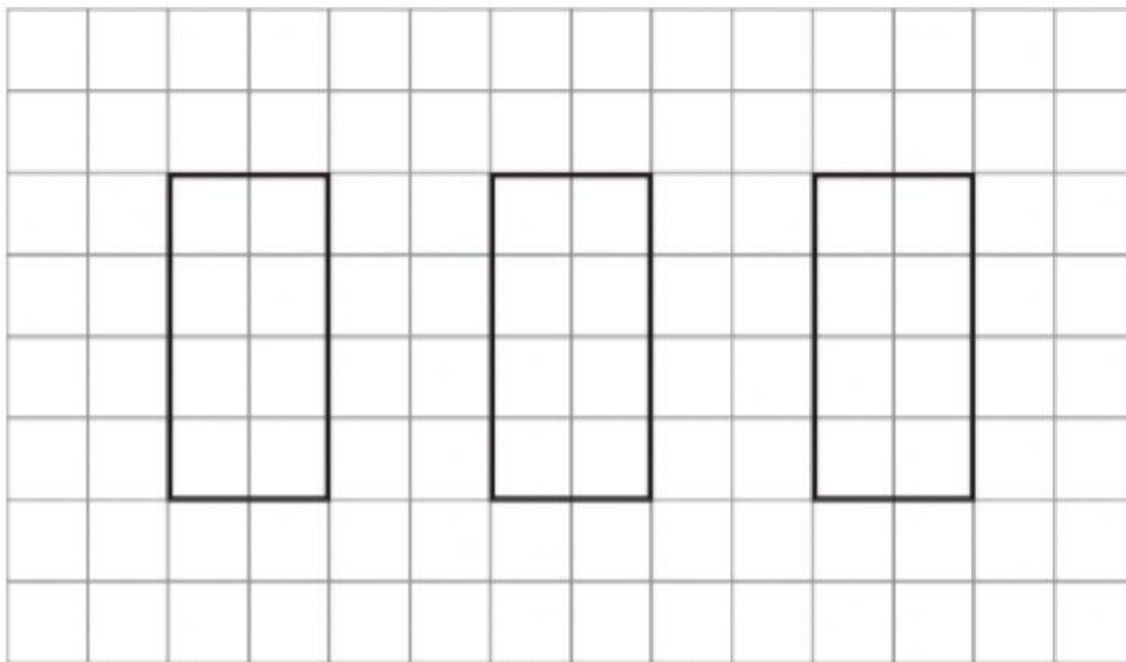


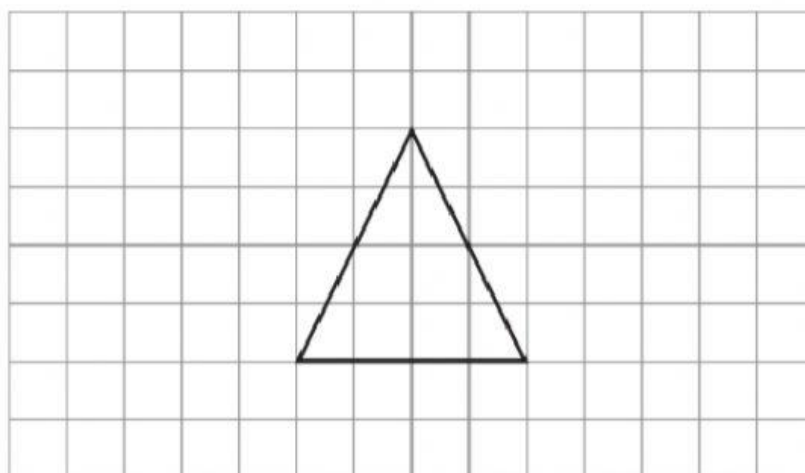
Grandeurs

1. Partage en 2 parties égales, de 3 façons différentes.

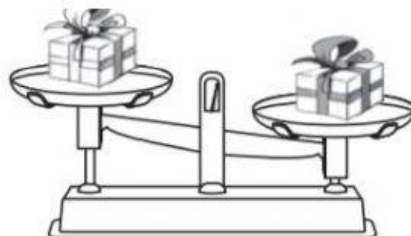
Tu ne peux tracer qu'un seul trait à la latte. Montre où tu coupes.



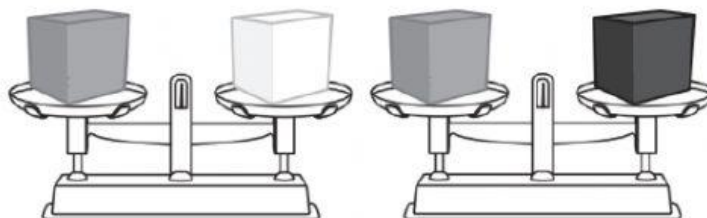
2. Colorie une moitié ($\frac{1}{2}$) du triangle. Montre-la.



3. Pauline et Pierre s'amuse à peser des cadeaux. Coche le cadeau qui est le plus lourd.



4. Observe ces deux balances.



Coche la proposition correcte.

☐ Le paquet blanc () est plus lourd que le paquet noir ().

☐ Le paquet blanc () est aussi lourd que le paquet noir ().


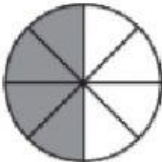

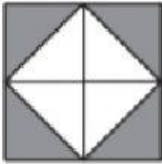
☐ Le paquet blanc () est moins lourd que le paquet noir ().



5. Coche l'unité de mesure qui convient.

	Litres (l)	Minutes (min)	Kilogrammes (kg)	Centimètres (cm)
La durée de cuisson d'une soupe se mesure en :				
Le contenu de la casserole de soupe se mesure en :				
La hauteur de la casserole de soupe se mesure en :				
La masse de la casserole de soupe se mesure en :				

6. Pour chaque proposition, coche la case qui convient.

	VRAI	FAUX
<p>A. Un quart ($\frac{1}{4}$) de ce carré est colorié.</p> 		
<p>B. Une moitié ($\frac{1}{2}$) de ce disque est coloriée.</p> 		
<p>E. Une moitié ($\frac{1}{2}$) de ce rectangle est coloriée.</p> 		
<p>F. Une moitié ($\frac{1}{2}$) de ce carré est coloriée.</p> 		
<p>G. Une moitié ($\frac{1}{2}$) de ce rectangle est coloriée.</p> 