
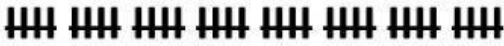

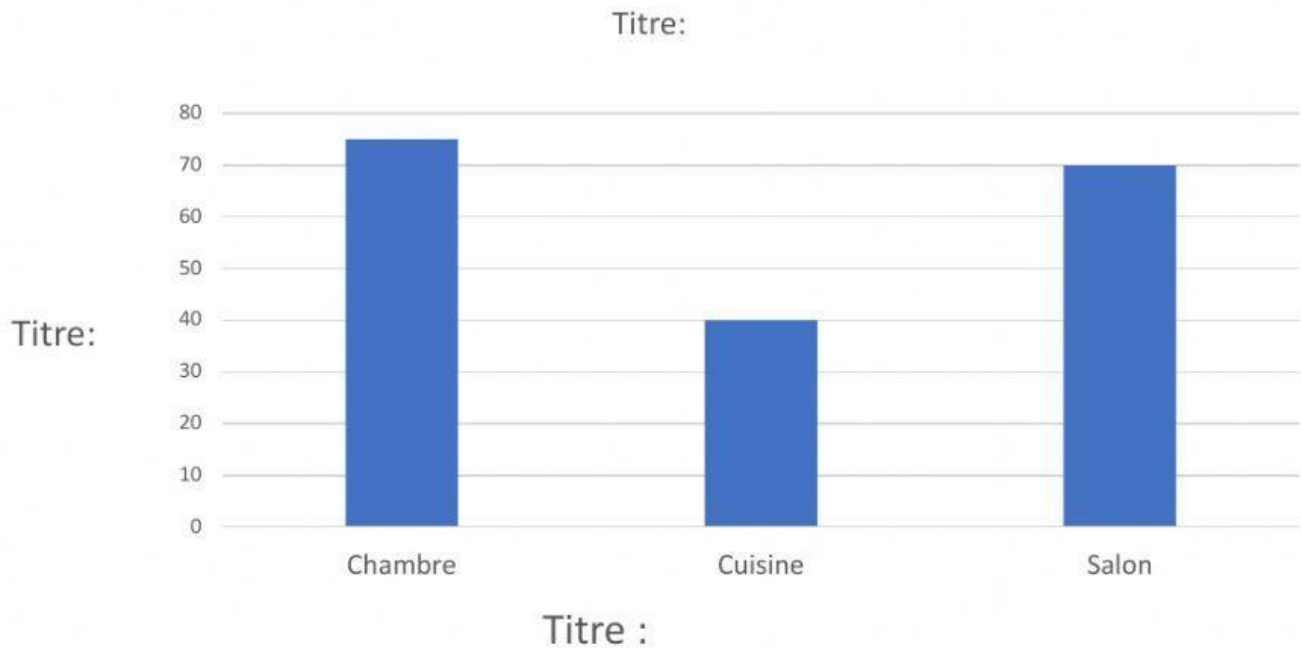


Le diagramme à bandes- EXERCICE

1- Finis de remplir le tableau des effectifs suivant :

L'endroit où les enfants préfèrent lire à l'école LAMO		
Endroits	Dénombrement	Effectifs
Chambre		
Cuisine		
Salon		

2- Complète le titre du diagramme et les 2 titres des axes



Complète les phrases suivantes en utilisant les données du diagramme :

1- Quels sont les 3 endroits inscrits dans ce diagramme :

- 2- Il y a _____ personnes qui aiment lire dans le salon
- 3- Il y a _____ personnes qui aiment lire dans la cuisine
- 4- Il y a _____ personnes qui aiment lire dans la chambre

- 5- L'endroit préféré des élèves pour lire est _____
- 6- Il y a _____ personnes au total qui ont participé à ce sondage.
- 7- Dans ce diagramme, on compte les effectifs par bonds de _____

