






LAS HORAS, MINUTOS Y SEGUNDOS 3

1. ¿Qué hora es?

	Son las _____ Dentro de tres cuartos de horas serán _____
	Son las _____ Dentro de un cuarto de hora serán _____
	Son las _____ Hace dos horas eran _____
	Son las _____ Hace media hora eran _____
	Son las _____ Hace 45 minutos eran _____

2. Lee las oraciones y escribe V si es verdadera o F si es falsa.

- Las 5 de la tarde son las 17:00 h.
- Las 12 de la noche son las 24:00 h.
- Las 3 y cinco de la mañana son las 15:05 h.
- Las 2 y cuarto de la tarde son las 14:45 h.
- Las 8 y media de la mañana son las 08:30 h.
- Las 2 menos cinco de la tarde son las 01:55 h.

3. Resuelve en tu libreta y contesta.

Pedro tiene las clases de inglés a las 6 de la tarde. Si tarda 20 min en llegar a la academia desde su casa, ¿a qué hora debe salir de casa para llegar a la hora que empiezan las clases? ¿A qué hora termina la clase si dura 1 hora y media?



Solución: debe salir de casa _____

Solución: la clase termina _____

4. Un reloj va 15 minutos adelantado. Si ahora marca las nueve menos cinco de la noche, ¿qué hora es en realidad?

Solución: en realidad son _____