




## FRACCIONES, DECIMALES Y PORCENTAJES

Sabiendo que el cuadrado grande es la unidad, la barra es la décima y el cuadradito es la centésima,  
completa esta tabla...

¿CUÁNTAS FIGURAS COMO ESTAS NECESITAS? →				FRACCIÓN	DECIMAL	PORCENTAJE
23 centésimas	0	2	3	$\frac{23}{100}$	0,23	23 %
5 décimas		5		_____		%
18 décimas				_____		%
7 décimas				_____	0,70	%
120 centésimas				_____		%
64 centésimas				_____		%
82 centésimas				_____		%
<b>ESCRIBE EN FORMA DECIMAL</b>						
2 metros y 40 cm →		m		70 céntimos →		€
450 céntimos →		€		180 cm →		m
670 centímetros →		m		610 cm →		m
840 céntimos →		€		700 céntimos + 1€y50 cent →		€
230 cm + 1,60 m →		m		175 cm →		m