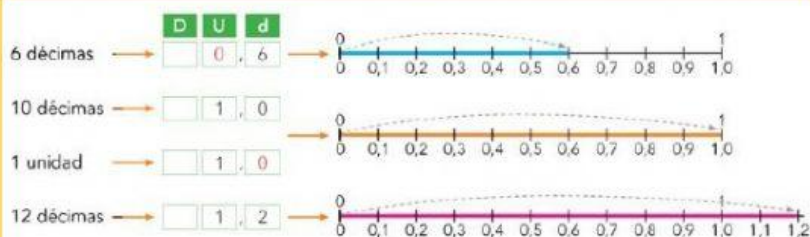


NÚMEROS DECIMALES


Cuando escribimos un **NÚMERO**

DECIMAL, ponemos la coma entre la cifra de las unidades y la cifra de las décimas.

1 unidad = 10 décimas



Escribe el número decimal que corresponde a cada letra:



A = 0,3 B = C = D = E = F = G = H = I = J =

LAS CENTÉSIMAS

En 100 partes iguales. Cada parte es una **centésima**:



Unidades	décimas	centésimas
0	0	1

$$\frac{1}{100} = 0,01$$

Una unidad tiene 100 centésimas.

En 10 partes iguales. Cada parte es una **décima**:




Unidades	décimas	centésimas
0	1	

$$\frac{1}{10} = 0,1$$

Una unidad tiene 10 décimas.

Diez centésimas equivalen a una **décima**:




Unidades	décimas	centésimas
0	1	0


$$0,10 = 0,1$$

Una décima tiene 10 centésimas.

Escribe la parte sombreada en forma decimal:




a)




b)



c)



d)



e)