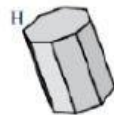


# GEOMETRÍA

## Parte 2: cuerpos geométricos

1) Observa las siguientes figuras y señala en cada caso si son poliedros o no.



A →

B →

C →

D →

E →

F →

G →

H →

I →

J →

K →

L →

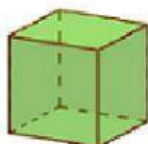
2) Completa la siguiente tabla.

| CUERPO | NOMBRE COMPLETO | Nº DE BASES | Nº DE CARAS LATERALES | Nº DE VÉRTICES | Nº DE ARISTAS |
|--------|-----------------|-------------|-----------------------|----------------|---------------|
|        |                 |             |                       |                |               |
|        |                 |             |                       |                |               |
|        |                 |             |                       |                |               |
|        |                 |             |                       |                |               |

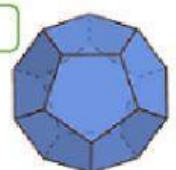
3) ¿Cómo se llaman las siguientes figuras?











4) Une cada cuerpo con su desarrollo.

