

CURSO:
1º PRI

ÁREA:
MATEMÁTICAS

UNIDAD 17:
REPASO

FECHA:
Miércoles 17 /06/2020

FICHA:
Nº 24

NOMBRE:

1



¡Hagamos con unas RESTAS!

| | | | | | |
|--|---|---|---|---|---|
| $\begin{array}{r} 55 \\ - 5 \\ \hline \square \square \end{array}$ | $\begin{array}{r} 28 \\ - 14 \\ \hline \square \square \end{array}$ | $\begin{array}{r} 69 \\ - 35 \\ \hline \square \square \end{array}$ | $\begin{array}{r} 65 \\ - 63 \\ \hline \square \square \end{array}$ | $\begin{array}{r} 96 \\ - 62 \\ \hline \square \square \end{array}$ | $\begin{array}{r} 97 \\ - 42 \\ \hline \square \square \end{array}$ |
|--|---|---|---|---|---|

2








¡Ahora las SUMAS CON LLEVADA!

| | | | | | |
|--|--|--|---|--|--|
| $\begin{array}{r} \textcircled{3} 6 \\ + 15 \\ \hline \square \square \end{array}$ | $\begin{array}{r} \textcircled{2} 9 \\ + 43 \\ \hline \square \square \end{array}$ | $\begin{array}{r} \textcircled{5} 7 \\ + 24 \\ \hline \square \square \end{array}$ | $\begin{array}{r} \textcircled{5} 6 \\ + 5 \\ \hline \square \square \end{array}$ | $\begin{array}{r} \textcircled{4} 5 \\ + 25 \\ \hline \square \square \end{array}$ | $\begin{array}{r} \textcircled{2} 6 \\ + 52 \\ \hline \square \square \end{array}$ |
|--|--|--|---|--|--|

3



¿Preparados para un dictado?
Escucha el número y escríbelo.

| | | | | |
|---|---|---|---|---|
|  |  |  |  |  |
| <input type="text"/> | <input type="text"/> | <input type="text"/> | <input type="text"/> | <input type="text"/> |

4



Vamos a repasar el ANTERIOR y el POSTERIOR de un número.

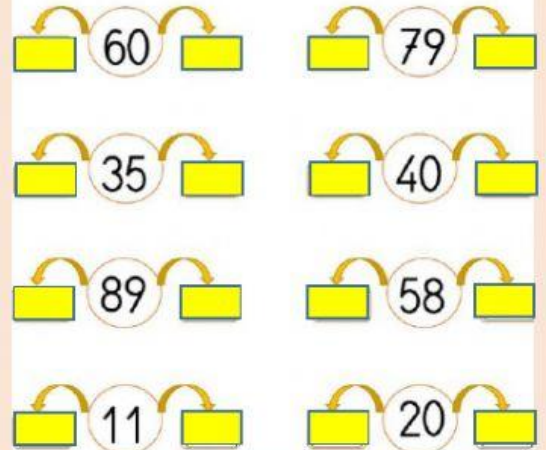
RECUERDA

Anterior

Es el número que va
antes

Posterior

Es el número que va
después



5



Ya sabemos qué número está delante y cualquier detrás, ahora lo pondremos en práctica, ORDENANDO algunos números.

¿Cuál es el mayor?

Arrastra los números para ordenarlos de
mayor a menor.

| | | | | |
|----------------------|----------------------|----------------------|----------------------|----------------------|
| 23 | 32 | 11 | 63 | 50 |
| <input type="text"/> | <input type="text"/> | <input type="text"/> | <input type="text"/> | <input type="text"/> |
| 31 | 12 | 26 | 52 | 64 |
| <input type="text"/> | <input type="text"/> | <input type="text"/> | <input type="text"/> | <input type="text"/> |