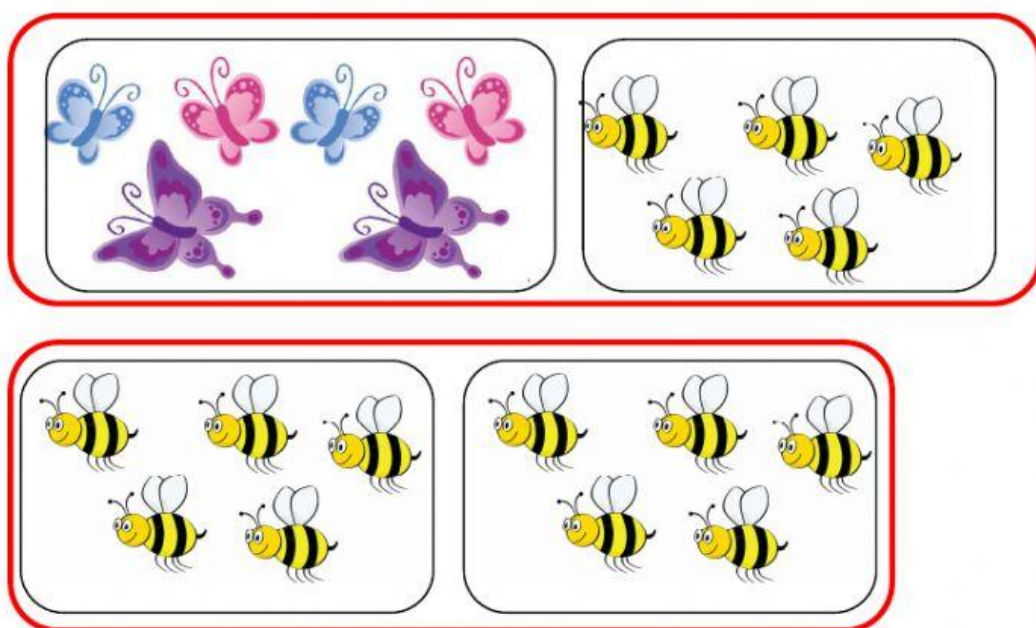


IN UN PRATO CI SONO 12
FARFALLE E 6 API. QUANTI
INSETTI CI SONO IN TUTTO?

SCEGLI L'IMMAGINE



SCEGLI L'OPERAZIONE


$$12 + 6 = \quad \quad \quad 12 - 6 =$$

SCEGLI IL RISULTATO

16 20 18 8 6

MARCO HA 15 COLORI LUNGHI E
3 COLORI CORTI. QUANTI
COLORI HA IN TUTTO?

SCEGLI L'IMMAGINE



SCEGLI L'OPERAZIONE

$$15 + 3 =$$


$$15 - 3 =$$

SCEGLI IL RISULTATO

20 19 18 5 8 3

LA GALLINA HA FATTO 13 UOVA.
SONO NATI 5 PULCINI. QUANTE
UOVA RESTANO?

SCEGLI L'IMMAGINE



SCEGLI L'OPERAZIONE

$$13 + 5 =$$



$$13 - 5 =$$

SCEGLI IL RISULTATO

18 13 10 8 5

IN UN PARCHEGGIO CI SONO
9 AUTO E 7 CAMION. QUANTI
VEICOLI CI SONO IN TUTTO?

SCEGLI L'IMMAGINE



SCEGLI L'OPERAZIONE

$$9 + 7 =$$

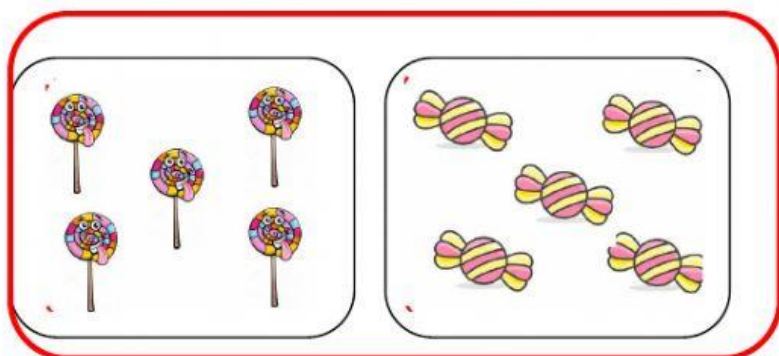
$$9 - 7 =$$

SCEGLI IL RISULTATO

2 8 10 12 16 20

SA RA COM PE RA 9 LE CCA - LE CCA E
9 CA RA ME LLE. QUAN TI DOL CI
COM PRA IN TU TTO?

SCEGLI L'IMMAGINE



SCEGLI L'OPERAZIONE

$$9 + 9 =$$

$$9 - 9 =$$

SCEGLI IL RISULTATO

0 8 10 12 18 20

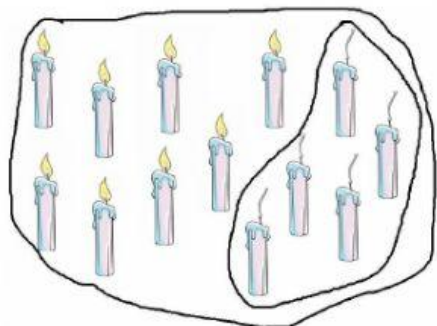
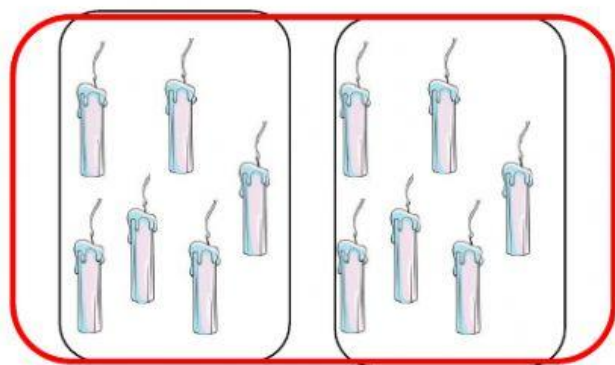
IN GIARDINO CI SONO

19 CANDIE. IL VENTO SPEGNE

8 CANDIE. QUANTE CANDIE

RESTANO ACCESE?

SCEGLI L'IMMAGINE



SCEGLI L'OPERAZIONE

$$19 + 8 =$$

$$19 - 8 =$$

SCEGLI IL RISULTATO

10 11 13 15 20 25