

# CLASSES D'ANGLES

Mira el video:

Agafa llibreta i copia el requadre.

## CLASSES D'ANGLES

Els angles, segons la seua amplitud, es poden classificar en:



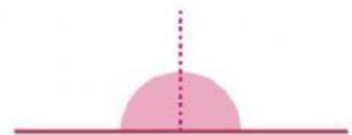
**Angle recte**



**Angle agut:** és més menut que un angle recte.

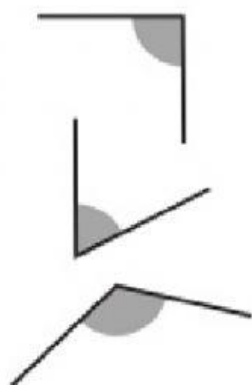


**Angle obtús:** és més gran que un angle recte.



**Angle pla:** és dues vegades un angle recte.

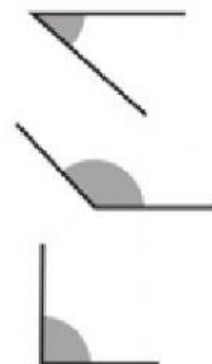
Uneix



angle agut

angle recte

angle obtús

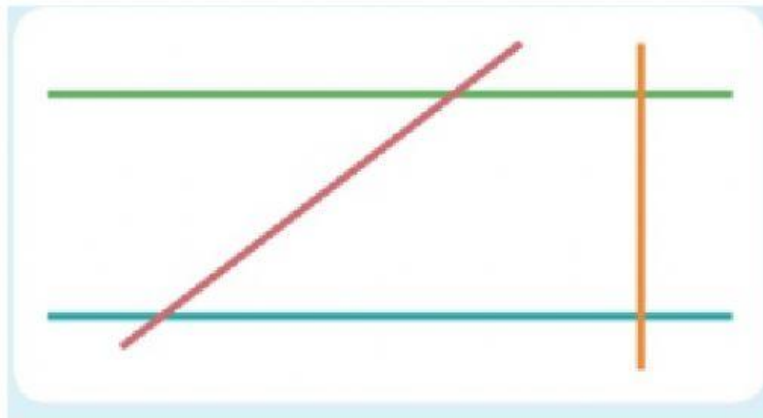


Classifica i ordena'ls de major a menor amplitud



\_\_\_\_\_ > \_\_\_\_\_ > \_\_\_\_\_ < \_\_\_\_\_

Calca la figura al quadern o señala-hi dos angles rectes, dos d'aguts, dos d'obtusos i dos de plans.



Un angle pla està format per dos angles rectes.  
Dibuixa l'angle format per quatre angles rectes  
al teu quadern i després contesta ací.

Podriem dir que 4 angles rectes formen un angle complet? \_\_\_\_\_