



- 1 Reparte, en partes iguales, 15 tizas en 3 cestos. Después, completa.




$$\square : \square = \square \blacktriangleright \text{En cada cester hay } \underline{\hspace{2cm}}$$

- 2 Reparte, en partes iguales, 16 ceras en 4 estuches. Después, completa.



$$\square : \square = \square \blacktriangleright \underline{\hspace{2cm}}$$

- 3 Reparte, en partes iguales, 12 cuadernos en 4 mochilas. Después, completa.



$$\square : \square = \square \blacktriangleright \underline{\hspace{2cm}}$$