
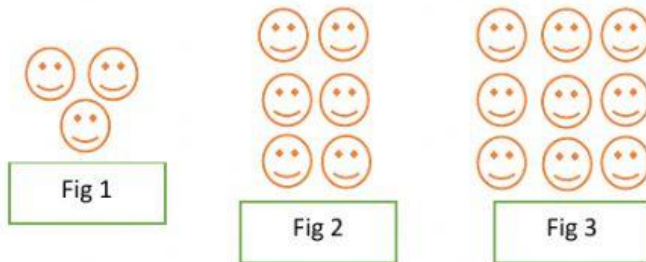


SECUENCIAS NUMERICAS



Observa la secuencia e indica los resultados

1.



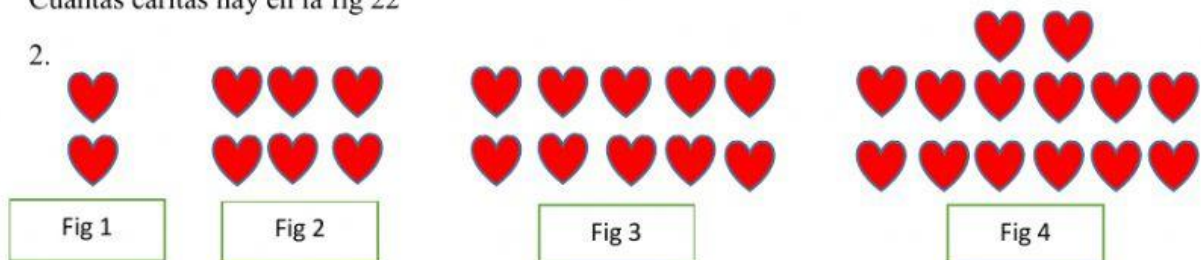
Cuántas caritas hay en la fig 5:

Cuántas caritas hay en la fig 8:

Cuántas caritas hay en la fig 10:

Cuántas caritas hay en la fig 22

2.



Cuántos corazones hay en la fig 5:

Cuántos corazones hay en la fig 8:

Cuántos corazones hay en la fig 10:

Cuántos corazones hay en la fig 21:

3.

1, 7, 13, 19, 25, 31

Cuál es el número de la séptima posición

Cuál es el número de la novena posición

Cuál es el número de la onceava posición

Cuál es el número de la treceava posición