











1. Escribe el nombre y el tiempo que dura cada figura:

	NOMBRE: DURA ____ TIEMPOS	NOMBRE: DURA ____ TIEMPOS	
	NOMBRE: DURA ____ TIEMPOS	NOMBRE: DURA ____ TIEMPOS	
	NOMBRE: DURA ____ TIEMPO	NOMBRE: DURA ____ TIEMPO	
	NOMBRE: DURA ____ TIEMPO	NOMBRE: DURA ____ TIEMPO	
	NOMBRE: DURA ____ TIEMPO	NOMBRE: DURA ____ TIEMPO	

2. Suma los tiempos que duran las siguientes figuras musicales y pon el resultado:



VEAMOS SI TE ACUERDAS DE TODO LO EXPLICADO

$$\text{Quarter Note} + \text{Quarter Note} =$$

Tiempos

$$\text{Quarter Note} + \text{Quarter Note} =$$

Tiempos

$$\text{Half Note} + \text{Quarter Note} =$$

Tiempos

$$\text{Quarter Note} + \text{Quarter Note} =$$

Tiempos

$$\text{Half Note} + \text{Quarter Note} =$$

Tiempos