



Tarea: ¡Fiesta de verano!

En el colegio se celebra el fin de curso con una gran fiesta y se invita a las familias a participar en talleres y juegos.

Paloma, Mario, Santiago y Olga son los encargados de comprar los adornos y de distribuir los materiales para los talleres.

1 Lee y resuelve.

- Santiago empezó a las cinco menos cuarto a colocar los tableros para el torneo y acabó a las cinco y media. ¿Cuánto tiempo estuvo colocando tableros y piezas?

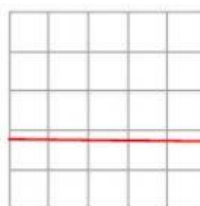
Empieza a las : . Terminó a las : .

Estuvo colocando durante

- Olga ha comprado 265 globos a 3 céntimos cada uno. ¿Cuántos céntimos se ha gastado?

Ha comprado globos.

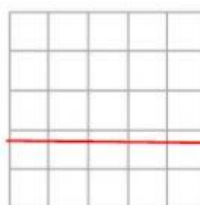
Cada uno vale cts.



- Paloma y Mario están repartiendo los pinceles para el taller de pintura. Cada uno ha repartido 178. ¿Cuántos pinceles han repartido entre todos?

Paloma repartió pinceles.

Mario repartió pinceles.



2 Observa, completa la tabla y responde.













Jugamos el torneo de ajedrez por equipos. Estos fueron resultados:

EQUIPOS	PARTIDAS			Total de puntos
	Ganadas 3 puntos	Perdidas 0 puntos	Empatadas 1 punto	
Madrugadores	2	2	2	
Campeones	0	1	5	
Brujillas	1	0	5	
Kasparines	3	3	0	

¿Qué equipo ganó el torneo?

¿Qué dos equipos quedaron empatados a puntos?

Para conocer qué pruebas y juegos han sido los más visitados por las familias, hemos elaborado un gráfico.

TALLER DE PINTURA					
GLOBOS LOCOS					
TORNEO DE AJEDREZ					

 = 10 visitantes

¿Cuántos visitantes más tuvo el torneo que los globos locos?

¿Cuál fue el juego más popular?

¿Cuántos visitantes tuvo el taller de pintura?