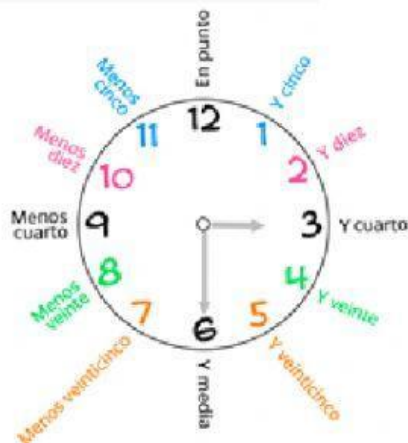


HORAS, MINUTOS Y SEGUNDOS



1 día	24 horas
1 hora	60 minutos
3/4 de hora	45 minutos
1/2 hora	30 minutos
1/4 de hora	15 minutos
1 minuto	60 segundos



1. Contesta a estas preguntas.

¿A cuántos segundos equivalen 5 minutos? A ____ minutos.

¿A cuántos minutos equivale un cuarto de hora? A ____ minutos.

¿A cuántos minutos equivale media hora? A ____ minutos.

¿A cuántos minutos equivale un cuarto de hora y media hora? A ____ minutos.

¿A cuántos minutos equivale una hora menos un cuarto de hora? A ____ minutos.



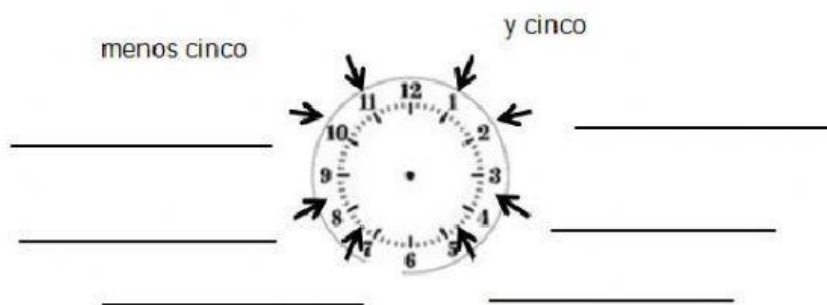
2. Completa estas oraciones.

70 minutos equivalen a ____ hora y ____ minutos.

60 minutos y 70 segundos equivalen a ____ hora, ____ minuto y ____ segundos.


55 minutos equivalen a ____ cuartos de hora y ____ minutos.

3. Escribe los minutos que indica cada una de las posiciones indicadas.



4. ¿Qué hora es?

Escribe la hora del reloj analógico en el digital y también con letra.



03 : 30 12 : 00 09 : 45

Las tres y media.

01 : 15 11 : 30 10 : 00

AM



10 : 15

Las diez y cuarto.



:



:

AM= antes del mediodía.

PM= después del mediodía

PM



:



:



: