

TAREA DE MATEMÁTICAS UNIDAD 11

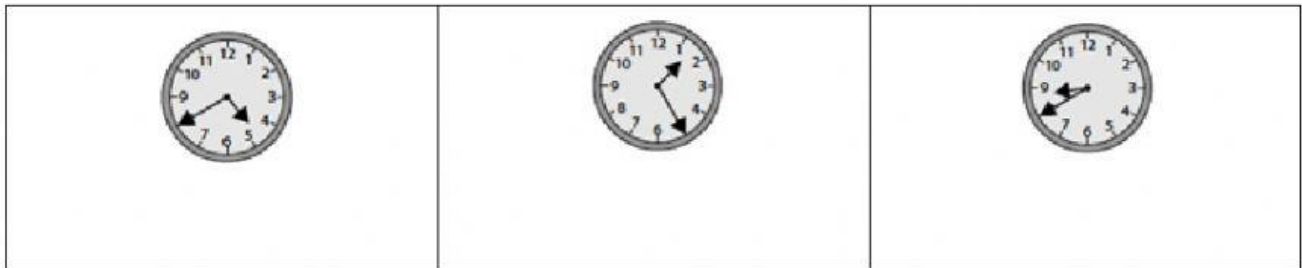
NOMBRE Y APELLIDOS :

CURSO:

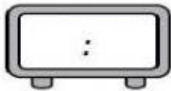
1.- Completa las frases.

- Una hora son minutos.
- Un día son horas.
- Media hora son minutos .
- Un cuarto de hora son minutos.

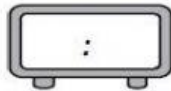
2.- Elige la hora que marca cada reloj.



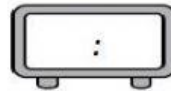
3.- Escribe la hora indicada. No olvides poner los dos puntos.



Las seis y media
de la mañana.



Las once y veinte
de la noche.



Las cinco y diez
de la tarde.

4.- Completa.

- | | |
|---------------------------------------|---------------------------------------|
| • 4 horas = minutos | • 5 horas =. minutos |
| • 6 minutos = segundos | • 9 minutos = segundos |

5.- Une cada reloj de aguja con su reloj digital.

