



1- Escribe estos números en letra y únelos con su ábaco.



806

---

791

---

948

---

982


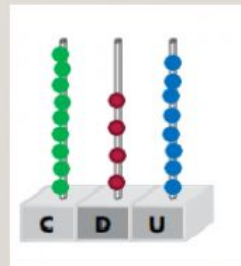
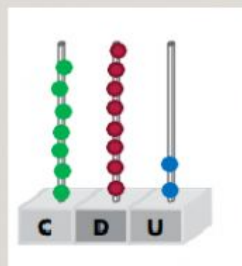
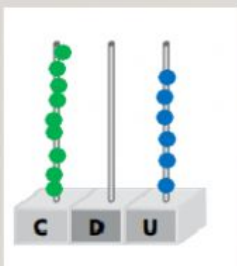
---

806

791

948

982





2- Ordena los números de mayor a menor.

657-430-961-599-726

>  >  >  >

3- Escribe el signo que corresponda, < o >, y la descomposición de cada número.

659 ○ 956

640 ○ 406

---

659  +  +

956  +  +

640  +  +

406  +  +

YA CASI  
LO TIENES





4- Marca el número impar mayor que 967.

972    790    992    979    959

5- Completa.

$$7 \times \quad = 21$$

$$9 \times \quad = 45$$

$$8 \times \quad = 64$$

$$7 \times \quad = 63$$



---

6- Reparte en partes iguales.



$$\boxed{\phantom{00}} : 4 = \boxed{\phantom{00}}$$

Dividido entre 4  
es igual a





7- Lee y resuelve.



Las 12 velas del cumpleaños de mi hermana están repartidas en tres filas. ¿Cuántas velas hay en cada una de las 3 filas?

DATOS       VELAS       FILAS

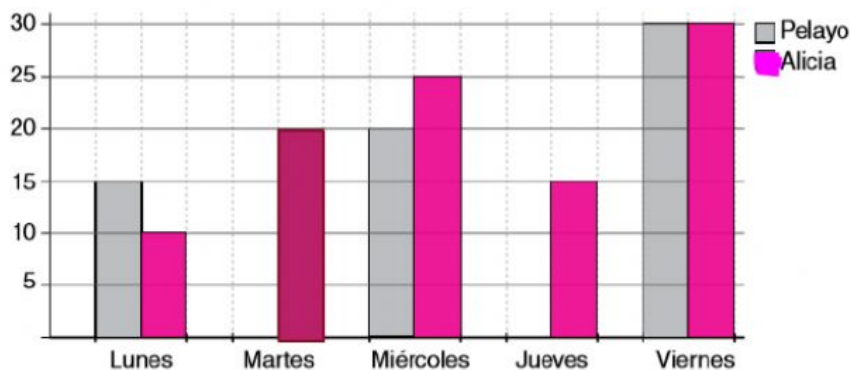
OPERACIÓN       :  =

RESULTADO      Hay  en cada fila.

6- Responde las preguntas.



	Lunes	Martes	Miércoles	Jueves	Viernes
Pelayo	15 min	0 min	20 min	0 min	30 min
Alicia	10 min	20 min	25 min	15 min	30 min



¿Quién ha leído más el lunes? \_\_\_\_\_

¿Quién ha leído más en toda la semana? \_\_\_\_\_