

1. Arrastras las siguientes palabras para dar sentido al texto.


tiempo	familia	árbol	nace
--------	---------	-------	------

El _____ **genealógico** ordena la historia de la _____. Empieza con familiares nacidos hace _____ y se amplía cuando _____ otro familiar.

2. Os vamos a contar una la historia sobre los miembros de la familia de Julia.

Julia tiene dos primos, Juan y Blanca. La tía de Julia se llama Marta, y la mamá de Marta y del padre de Julia que se llama José, es su abuela Paula.

Sabiendo estos datos podrías ordenar el árbol genealógico de la familia de Julia. Arrastra las fotos hasta los cuadros.



↓
JULIA

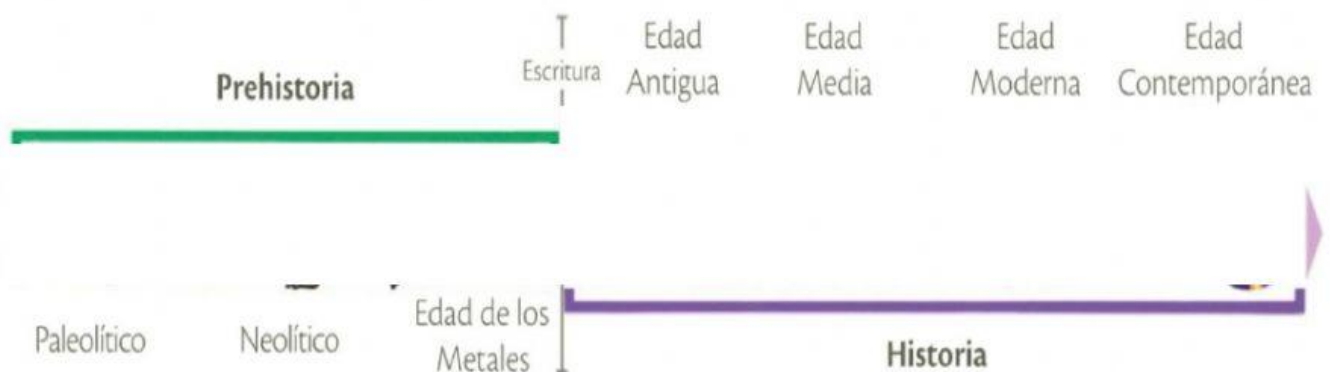
3. Di si estas afirmaciones son verdaderas o falsas. Haz clic sobre la opción que consideres.

Afirmaciones	Verdadero	Falso
El pasado representa los hechos que están ocurriendo ahora mismo.		
El futuro son los hechos o acciones que ocurrirán mañana, en una semana...		
El presente es todo lo que hicimos ayer o hace un tiempo		
Para medir el paso del tiempo durante el día utilizamos el reloj		
Para medir el paso de los días, las semanas, los meses y los años, utilizamos el calendario		

4. Completa las siguientes equivalencias eligiendo en el desplegable.

1 día	1 hora	1 minuto
1 año	1 semana	1 década
100 años	1 milenio	1 lustro
25 años		

5. Arrastra las diferentes imágenes y ordena esta línea del tiempo



6. Elige en el desplegable si estos acontecimientos sucedieron antes o después de Cristo.











7. Di si estas afirmaciones son verdaderas o falsas.

Afirmaciones	Verdadero	Falso
Las pinturas rupestres aparecen en el Neolítico		
Uno de los hechos más importantes de la Edad Moderna fue el descubrimiento de América.		
Uno de los hechos más importante de la Edad Contemporánea es el derecho a votar a quien queremos que nos represente.		
La Prehistoria terminó con la invención dela escritura		

8. Elige la respuesta correcta en el desplegable.

I _____

V _____

X _____

L _____


C _____

D _____

M _____

9. Arrastra estos siglos para que coincidan con la fecha.

I	XV	XX	XIV
---	----	----	-----





10. Une con flechas

- MDCCCL 7
- DXXV 1850
- VII 212
- CCXII 525