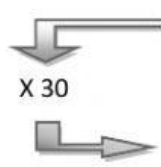
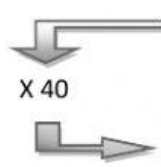


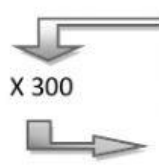
MATEMÁTICAS: Multiplicación por decenas y centenas exactas.

1) Multiplica rápido:

| | | | | | | | | | | | | | |
|---|---|---|---|---|----|---|---|----|---|---|---|----|---|
|  | 2 | 4 | 8 | 3 | 20 | 6 | 9 | 10 | 7 | 1 | 0 | 11 | 5 |
| X 30 | | | | | | | | | | | | | |

1) Multiplica rápido:

| | | | | | | | | | | | | | |
|---|---|---|----|----|---|---|---|----|---|---|---|---|---|
|  | 2 | 5 | 20 | 11 | 7 | 3 | 9 | 10 | 8 | 1 | 4 | 6 | 0 |
| X 40 | | | | | | | | | | | | | |

| | | | | | | | | | | | | |
|--|---|---|----|---|---|---|----|---|----|---|---|---|
|  | 3 | 2 | 10 | 1 | 7 | 5 | 20 | 9 | 11 | 4 | 6 | 0 |
| X 300 | | | | | | | | | | | | |

2) Resuelvo mentalmente :

a. En una caja hay 40 lápices. ¿Cuántos lápices hay en 300 cajas?

Solución: Hay lápices en total.

b. Un niño tiene 50 canicas. ¿Cuántas canicas tienen 80 niños?

Solución: En total tienen canicas.

c. En una mochila hay 7 cuadernos. ¿Cuántos cuadernos hay en 50 mochilas?

Solución: En 50 mochilas hay cuadernos.