

FICHA DE REPASO: UNIDADES DE MEDIDA

1. ¿Qué unidades de medidas crees que son las más adecuadas en cada caso?

Marca las casillas correctas.

☐

centímetro

☐

metro

El largo del estuche

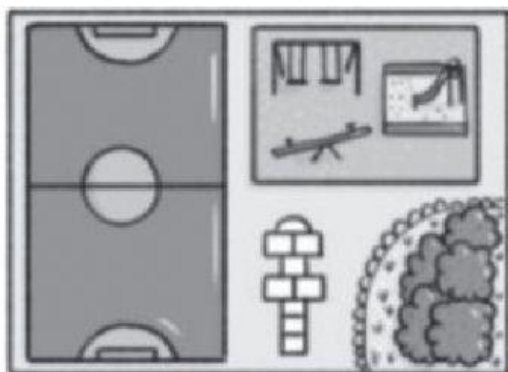
☐

centímetro

☐

metro

El largo de la colchoneta

☐






centímetro

☐

metro

El ancho del patio

2. Observa y relaciona cada producto con la cantidad a la que se refiere

<p>Manzana royal gala, bolsa de 2 kg</p>  <p>2,88 €</p>	 <p>1 €</p> <p>Plátano, 1 kg</p>	 <p>1 €</p> <p>Tomate, 1 kg</p>
	 <p>1 €</p> <p>Uva blanca, bandeja 500 g</p>	 <p>2,69 €</p> <p>Patata, bolsa 5 kg</p>

- Manzanas
- Plátanos
- Uvas
- Tomates
- Patatas
- Menos de un kilo.
- Un kilo.
- Más de un kilo.

3. Expresa en gramos las cantidades del ejercicio anterior.

- Manzanas:
- Plátanos:
- Uvas:
- Tomates:
- Patatas:

4. Copia y completa con las unidades de medidas que correspondan.

UNIDADES DE CAPACIDAD	
 medio <input type="text"/> de helado	 30 <input type="text"/> de jarabe
UNIDADES DE LONGITUD	
 30 <input type="text"/> de cinta	 50 <input type="text"/> de tela
UNIDADES DE MASA	
 100 <input type="text"/> de almendras	 3 <input type="text"/> de carbón

5. Elige la capacidad adecuada para cada recipiente:



1 L o 1 cl



50 cl o 50 L



40 L o 40 cl



75 L o 75 cl



33 cl o 33 L

