

ACTIVIDADES DE MATEMÁTICAS

1º DE PRIMARIA

1º Escribe los números que faltan siguiendo las series en cada una de las filas:

99					94				
----	--	--	--	--	----	--	--	--	--

59				63					
----	--	--	--	----	--	--	--	--	--

	89								81
--	----	--	--	--	--	--	--	--	----

2º Ordena los números de mayor a menor:

95	86	40	28	19	57	89
----	----	----	----	----	----	----

> > > > > >

3º Une cada número con su descomposición:

- Ochenta y nueve: 9D y 8 U
- Cincuenta y seis: 30+1
- Veinticuatro: 5D y 6U
- Treinta y uno: 80+9
- Noventa y ocho: 20+4
- Setenta y siete: 7D y 7U

4º Escribe saltando de 3 en 3 desde el 45 hasta el 99:

45					60				
		81						99	

5º Dictado de números. Mira los siguientes números y elige cómo se escriben:

- | | |
|-----|-----|
| 28: | 19: |
| 39: | 47: |
| 95: | 52: |
| 76: | 63: |

ACTIVIDADES DE MATEMÁTICAS

1º DE PRIMARIA

6º Completa con los signos $>$, $<$, $=$:

84		83
----	--	----

59		60
----	--	----

87		78
----	--	----

35		35
----	--	----

97		90
----	--	----

42		48
----	--	----


96		92
----	--	----

89		90
----	--	----

46		46
----	--	----

7º Une cada color con el número correcto siguiendo las pistas:

86	53	49	20
93	34	43	37
60	82	89	12
18	55	76	24
99	71	90	68



Color rojo: 4D y 3 U


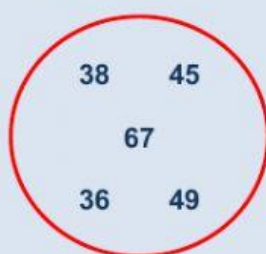
Color azul: número anterior al 91

Color amarillo: $50 + 5$

Color naranja: el número mayor de 2 cifras

Color verde: número posterior al 59

8º Elige el número menor de los círculos rojos y el número mayor de los círculos azules:



¡NO OLVIDES
REPASAR ANTES
DE DARLE A
TERMINAR!