



REPASO TEMAS 1-8

1. Multiplica o divide. Marca la solución correcta:

	0,46	4,6	460	46.000	4.600	0,046
46x10						
46x100						
46x1.000						
46:10						
46:100						
46:1.000						

2. Resuelve: He comprado dos tabletas de chocolate a 1,50 € cada una, ¿cuánto me he gastado?

☐ 1,25 ☐ 2,75 € ☐ 3 € ☐ 3,25 € ☐ 4 €

3. ¿Cuánto tiempo pasa desde las 11:30 de la mañana hasta las 14:30 de la tarde?

☐ 3 horas y cuarto ☐ 3 horas y media ☐ 3 horas

4. Si pasa una hora desde las 16:15, ¿qué hora será?

☐ 5 y cuarto ☐ 4 y cuarto ☐ 5 y media

5. Escribe de forma digital las seis y cuarto de la tarde.

☐ 06:15 ☐ 16:15 ☐ 18:15 ☐ 18:00

6. Calcula el perímetro de un cuadrado de lado miden 1,5 cm.

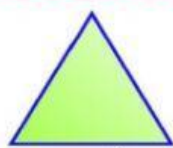
☐ 3 cm ☐ 4 cm ☐ 5 cm ☐ 6 cm






Clasificación de los triángulos

SEGÚN LA LONGITUD DE SUS LADOS :



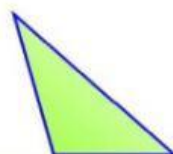
EQUILÁTERO

3 lados iguales



ISÓSCELES

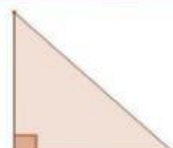
2 lados iguales



ESCALENO

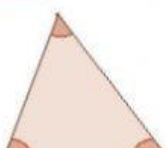
ningún lado igual

SEGÚN SUS ÁNGULOS :



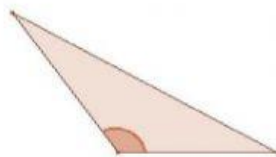
RECTÁNGULO

1 ángulo recto



ACUTÁNGULO

3 ángulos agudos



OBTUSÁNGULO

1 ángulo obtuso

7. Clasifica y pon nombre a estos triángulos según sus lados y ángulos.

Equilátero acutángulo

Escaleno obtusángulo

Escaleno rectángulo

Isósceles acutángulo

Isósceles rectángulo

Isósceles obtusángulo




Imagen: Freepick.com

CEIP PADRE JERÓNIMO