

# MEDIDAS DE TIEMPO




Escribe las siguientes fechas con números, como en el ejemplo:

- Veintiocho de noviembre de dos mil quince : 28-11-2015
- Siete de junio de dos mil catorce:
- Diecinueve de febrero de dos mil veinte:

¿Qué meses del año forman el tercer trimestre?

ENERO	FEBRERO	MARZO	ABRIL	MAYO	JUNIO
JULIO	AGOSTO	SEPTIEMBRE	OCTUBRE	NOVIEMBRE	DICIEMBRE

¿Cuántas décadas completas han transcurrido entre el año 1970 y el 2015?



décadas


¿Cuál es la edad de la bisabuela si tiene 17 lustros y 2 años?



Tengo  
  
años.

Investiga en qué año tuvieron lugar los siguientes acontecimientos y a qué siglo pertenecen.




- Construcción de la Torre Eiffel
- Descubrimiento de América
- Invención del teléfono 
- Llegada del hombre a la Luna
- 1ª Olimpiada de la Era Moderna

Año

Siglo

<input type="text"/>	<input type="text"/>
<input type="text"/>	<input type="text"/>
<input type="text"/>	<input type="text"/>
<input type="text"/>	<input type="text"/>
<input type="text"/>	<input type="text"/>



----- 0 -----

Lee y contesta. "Si mi padre nació el 13/07/1967 y mi madre el 15/08/1968"

- ¿Quién es mayor?
- Si el año actual (2020) es bisiesto, ¿Quién nació en año bisiesto?

- ¿Qué quiere decir que un año es bisiesto?

.....

.....

----- 0 -----

Juan Sebastián Elcano, fue un personaje histórico que destacó por:

- Elige la opción correcta:



- ¿ Cuántos día duró la expedición, si comenzó el 20 de septiembre de 1519 y finalizó el 6 de septiembre de 1522 ?



días duró.