

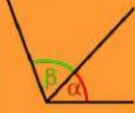



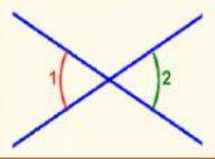
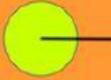
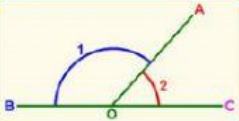


¡Tú puedes hacerlo!



# TIPOS DE ÁNGULOS

Selecciona la respuesta correcta:

DIBUJO	CARACTERÍSTICAS	NOMBRE
		
		
		
		
		
		
		
		
		



**Completa las siguientes afirmaciones:**

1. Sumando dos ángulos de  $45^\circ$  consecutivos se forma un ángulo
2. Sumando dos ángulos de  $35^\circ$  consecutivos se forma un ángulo
3. Sumando dos ángulos de  $90^\circ$  consecutivos se forma un ángulo
4. Sumando dos ángulo consecutivos, uno que mide  $15^\circ$  y otro que mide  $52^\circ$  se forma un ángulo
5. Sumando dos ángulos consecutivos, uno que mide  $54^\circ$  y otro que mide  $46^\circ$ , se forma un ángulo
6. Sumando dos ángulos consecutivos, uno que mide  $37^\circ$  y otro que mide  $53^\circ$ , se forma un ángulo
7. Sumando dos ángulos consecutivos, uno que mide  $120^\circ$  y otro que mide  $60^\circ$ , se forma un ángulo