

RESOLUCIÓN DE PROBLEMAS (cambio 1 y 2)

1- ¿Cuántas monedas contiene mi hucha si tenía dentro 7 y meto otras 8?

Se

No se:

Resuelvo

Solución


2- Si Lucas se come 4 chokolatinas de las 15 que tenía, ¿cuántas chokolatinas le quedan?

Se

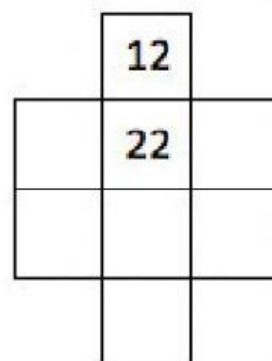
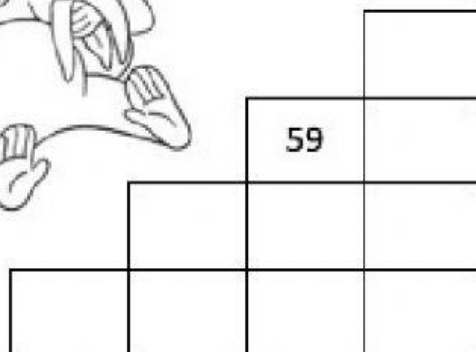
No se:

Resuelvo

Solución



CRUCINÚMEROS




¿QUÉ HORA ES?

Ocho en punto

Seis y media

Nueve y media

Cuatro en punto



4 : 00

9 : 30

6 : 30

8 : 00

Completa las tablas con el número anterior y el posterior

Número anterior		Número posterior
	7	
	10	
	18	
	95	
	29	

Número anterior		Número posterior
	70	
	36	
	41	
	68	
	50	