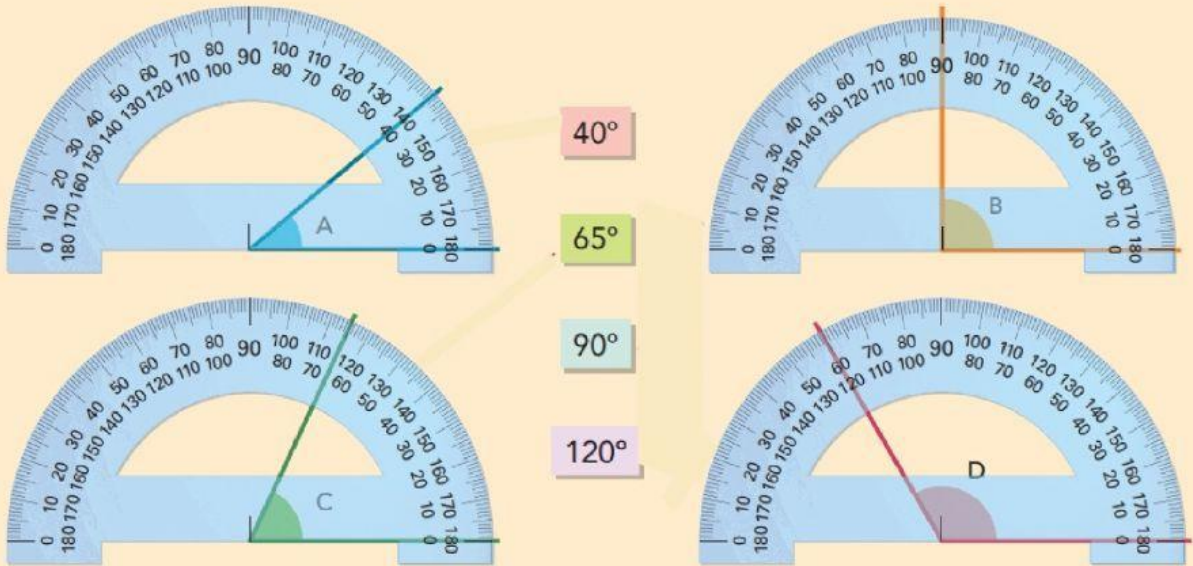


Tema 10 Rectes i angles

12. Relaciona cada angle amb la seva mesura:



13. Escribe quant fan aquests dos angles:



14. Escribe a cada angle la mesura que aproximadament li correspon:

90°

150°

35°



15. Ordena de gran a petit els angles que s'indiquen:



> > >

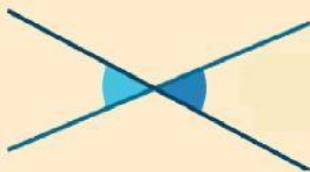
16. Relaciona cada figura amb la definició dels angles que representa:



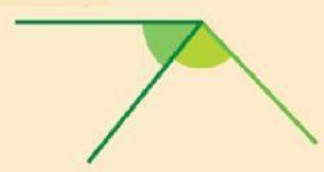
Adjacents: tenen en comú el vèrtex i un costat, i sumen un angle pla.



Consecutius: tenen en comú el vèrtex i un costat.



Oposats pel vèrtex: tenen en comú el vèrtex i els costats estan sobre dues rectes que es tallen.



17. Escriu quina classe d'angles són els indicats:

