


LKPD

Bangun Ruang Sisi Datar



DATA DIRI

Kelompok :

Nama Anggota :

Kelas :

VII
SMP/MTS

Soal Latihan

Setelah memahami materi. Silahkan isi pertanyaan berikut :

SOAL PILIHAN GANDA

Pilihlah jawaban yang paling benar dengan cara menekan jawaban yang paling benar !

Berikut ini yang termasuk sifat kubus adalah....

A. Memiliki 5 titik sudut

C. Memiliki 6 sisi yang bentuknya sama

B. Sisinya berbentuk jajar genjang

D. Memiliki bentuk alas segitiga

SOAL ISIAN SINGKAT


Isilah pertanyaan berikut dengan menulis jawaban pada kolom yang disediakan

Isilah Unsur - Unsur Kubus dibawah ini dengan benar

1. Banyak Rusuk Kubus adalah

2. Banyak Sisi Kubus adalah


3. Banyak Titik Sudut Kubus adalah




Soal Latihan

Pasangkan jaring-jaring dibawah ini dengan benar. Silahkan tarik garis dari kanan ke kiri pada lingkaran biru sehingga menjadi jawaban yang benar.

SOAL JOIN ARROW




BALOK



KUBUS



LIMAS SEGITIGA



Soal Latihan

Geser dan pindahkan rumus pada tempat yang sesuai.
Dengan cara mendrag kotak orange ke tempat yang benar.

SOAL DRAG N DROP

$$\frac{1}{3} \times \text{L.alas} \times \text{Tinggi}$$

Volume Limas

$$2 (pl + pt + lt)$$

L.Permukaan
Kubus

$$6 \times s \times s$$

L.Permukaan
Prisma

$$2 \times \text{L.alas} + (\text{Keliling alas} \times \text{tinggi})$$

Volume Prisma

$$\text{L.alas} \times \text{tinggi}$$

L.Permukaan
Balok



Soal Latihan

SOAL CHECK BOX

Berilah tanda centang (v) pada pernyataan berikut yang benar!

Gambar - gambar dibawah ini mana yang termasuk Bangun Ruang Sisi Datar

